


Документ подписан простой электронной подписью
Информация о владельце:
ФИО: Алейник Станислав Николаевич
Должность: Ректор
Дата подписания: 16.06.2023 15:20:09
Уникальный программный ключ:
5258223550ea9fb1016405186a010103

МИНИСТЕРСТВО СЕЛЬСКОГО ХОЗЯЙСТВА РОССИЙСКОЙ ФЕДЕРАЦИИ
ФЕДЕРАЛЬНОЕ ГОСУДАРСТВЕННОЕ БЮДЖЕТНОЕ ОБРАЗОВАТЕЛЬНОЕ
УЧРЕЖДЕНИЕ ВЫСШЕГО ОБРАЗОВАНИЯ «БЕЛГОРОДСКИЙ
ГОСУДАРСТВЕННЫЙ АГРАРНЫЙ УНИВЕРСИТЕТ ИМЕНИ В.Я.ГОРИНА»

Факультет среднего профессионального образования

Утвержден
на заседании кафедры ООД
« 19 » 04 2023 г.
протокол № 8
И.о. заведующего кафедрой
 Л.Н. Москвитина

**ФОНД ОЦЕНОЧНЫХ СРЕДСТВ
ПО УЧЕБНОЙ ДИСЦИПЛИНЕ
«ФИЗИКА»**

по специальности среднего профессионального образования

36.02.02 «Зоотехния»

п. Майский, 2023 год

Рабочая программа учебной дисциплины «Физика» разработана в соответствии с Федеральным государственным образовательным стандартом среднего профессионального образования по специальности 36.02.02 Зоотехния, утвержденного Приказом Министерства образования и науки России от 12.05.2014 г. № 505 (зарегистрировано Министерством юстиции Российской Федерации от 05.06.2014 г. № 32596), Федеральным государственным образовательным стандартом среднего общего образования, утвержденного Приказом Министерством образования и науки России от 17.05.2012 г. № 413 (ред. Приказом Министерства образования и науки России от 12.08.2022 г. № 732), примерной программой общеобразовательной учебной дисциплины «Физика», для профессиональных образовательных организаций, рекомендованной Федеральным государственным бюджетным образовательным учреждением дополнительного профессионального образования «Институт развития профессионального образования» от 30.11.2022г. протокол №14 и Рекомендациями по организации получения среднего общего образования в пределах освоения образовательных программ среднего профессионального образования на базе основного общего образования (письмо Департамента государственной политики в сфере среднего профессионального образования и профессионального обучения Министерства просвещения России от 01.03.2023 г. № 05-592).

Организация-разработчик: федеральное государственное бюджетное образовательное учреждение высшего образования «Белгородский государственный аграрный университет имени В.Я. Горина»

Составитель: Линёв А.А., преподаватель кафедры общеобразовательных дисциплин Белгородского государственного аграрного университета имени В.Я. Горина;

Мухин В.И., преподаватель кафедры общеобразовательных дисциплин Белгородского государственного аграрного университета имени В.Я. Горина

СОДЕРЖАНИЕ

1.	ПАСПОРТ ФОНДА ОЦЕНОЧНЫХ СРЕДСТВ	стр. 4
2.	ФОРМЫ КОНТРОЛЯ И ОЦЕНИВАНИЯ ФОРМИРУЕМЫХ КОМПЕТЕНЦИЙ	22
3.	КРИТЕРИИ ОЦЕНИВАНИЯ ФОРМИРУЕМЫХ КОМПЕТЕНЦИЙ	26
4.	КОНТРОЛЬНО-ОЦЕНОЧНЫЕ СРЕДСТВА	36
5.	МЕТОДИЧЕСКИЕ МАТЕРИАЛЫ	84
6.	СПИСОК ИСТОЧНИКОВ	87

1. Паспорт фонда оцениваемых средств

1.1. Область применения ФОС

ФОС предназначен для проверки результатов освоения общеобразовательной учебной дисциплины «Физика» по специальности 36.02.02 «Зоотехния»

1.2. Цели и задачи создания ФОС

Целью создания ФОС является установление соответствия учебных достижений запланированным результатам обучения по общеобразовательной дисциплине «Физика» и требованиям основной образовательной программы.

ФОС решает задачи:

- реализация междисциплинарного подхода к отбору содержания общеобразовательной дисциплины с учетом профессиональной направленности основной образовательной программы среднего профессионального образования;

- контроль и управление процессом приобретения обучающимися необходимых знаний, умений, навыков и уровня сформированности компетенции, определённых в ФГОС СПО по направлению подготовки и на основе ФГОС СОО;

- контроль (с помощью набора оценочных средств) и управление (с помощью элементов обратной связи) достижением целей реализации ОПОП, определенных в виде набора общекультурных, общепрофессиональных и профессиональных компетенций выпускников.

Назначение фонда оценочных средств: используется для оперативного и регулярного управления учебной деятельностью (в том числе самостоятельной) студентов, а также предназначен для оценки степени достижения запланированных результатов обучения по завершению обучения в установленной учебным планом форме: дифференцированный зачёт.

Перечень видов оценочных средств соответствует рабочей программе дисциплины «Физика».

1.3. Планируемые результаты освоения общеобразовательной дисциплины в соответствии с ФГОС СПО и на основе ФГОС СОО

В результате освоения учебной дисциплины обучающийся должен уметь:

- проводить наблюдения, планировать и выполнять эксперименты,
- выдвигать гипотезы и строить модели,
- применять полученные знания по физике для объяснения разнообразных физических явлений и свойств веществ;
- практически использовать физические знания;
- оценивать достоверность естественно-научной информации;
- использовать приобретенные знания и умения для решения практических задач повседневной жизни, обеспечивать безопасность собственной жизни, рационального природопользования и охраны окружающей среды;

- описывать и объяснять физические явления и свойства тел: свойства газов, жидкостей и твердых тел; электромагнитную индукцию, распространение электромагнитных волн; волновые свойства света;
- отличать гипотезы от научных теорий;
- делать выводы на основе экспериментальных данных;
- приводить примеры, показывающие, что: наблюдения и эксперименты являются основой для выдвижения гипотез и теорий, позволяют проверить истинность теоретических выводов; физическая теория дает возможность объяснять известные явления природы и научные факты, предсказывать еще неизвестные явления;
- приводить примеры практического использования физических знаний: законов механики, термодинамики и электродинамики в энергетике; различных видов электромагнитных излучений для развития радио и телекоммуникаций, квантовой физики в создании ядерной энергетики, лазеров;
- воспринимать и на основе полученных знаний самостоятельно оценивать информацию, содержащуюся в сообщениях СМИ, Интернете, научно-популярных статьях;
- применять полученные знания для решения физических задач;
- определять характер физического процесса по графику, таблице, формуле; измерять ряд физических величин, представляя результаты измерений с учетом их погрешностей.

• использовать приобретенные знания и умения в практической деятельности и повседневной жизни для:

- приобретения знаний о фундаментальных физических законах, лежащих в основе современной физической картины мира, принципов действия технических устройств и производственных процессов, о наиболее важных открытиях в области физики, оказавших определяющее влияние на развитие техники и технологии;
- понимания физической сущности явлений, проявляющихся в рамках производственной деятельности;
- освоения способов использования физических знаний для решения практических и профессиональных задач, объяснения явлений природы, производственных и технологических процессов, принципов действия технических приборов и устройств, обеспечения безопасности производства и охраны природы;
- формирования умений решать учебно-практические задачи физического содержания с учётом профессиональной направленности;
- приобретения опыта познания и самопознания; умений ставить задачи и решать проблемы с учётом профессиональной направленности;

- формирования умений искать, анализировать и обрабатывать физическую информацию с учётом профессиональной направленности;
- подготовки обучающихся к успешному освоению дисциплин и модулей профессионального цикла: формирование у них умений и опыта деятельности, характерных для профессий / должностей служащих или специальностей, получаемых в профессиональных образовательных организациях;
- подготовки к формированию общих компетенций будущего специалиста: самообразования, коммуникации, сотрудничества, принятия решений в стандартной и нестандартной ситуациях, проектирования, проведения физических измерений, эффективного и безопасного использования различных технических устройств, соблюдения правил охраны труда при работе с физическими приборами и оборудованием.

Особое значение дисциплина имеет при формировании и развитии ОК и ПК (таблица 1).

Таблица 1.

Код и наименование формируемых компетенций	Планируемые результаты освоения дисциплины	
	Общие	Дисциплинарные
ОК 01. Выбирать способы решения задач профессиональной деятельности применительно к различным контекстам	<p>В части трудового воспитания:</p> <p>ЛР 21 - готовность к труду, осознание ценности мастерства, трудолюбие;</p> <p>ЛР 26 - интерес к различным сферам профессиональной деятельности,</p> <p>Овладение универсальными учебными познавательными действиями:</p> <p>а) базовые логические действия:</p> <p>МР 01 - самостоятельно формулировать и актуализировать проблему, рассматривать ее всесторонне;</p> <p>МР 02 - устанавливать существенный признак или основания для сравнения, классификации и обобщения;</p> <p>МР 03 - определять цели деятельности, задавать параметры и критерии их достижения;</p> <p>МР 04 - выявлять закономерности и противоречия в рассматриваемых явлениях;</p> <p>МР 06 - вносить коррективы в деятельность, оценивать соответствие результатов целям, оценивать риски последствий деятельности;</p> <p>МР 08 - развивать креативное мышление при решении жизненных проблем</p> <p>б) базовые исследовательские действия:</p>	<p>ПРб 1 - сформировать представления о роли и месте физики в современной научной картине мира, о системообразующей роли физики в развитии естественных наук, техники и современных технологий, о вкладе российских и зарубежных ученых-физиков в развитие науки; понимание физической сущности наблюдаемых явлений микромира, макромира и мегамира; понимание роли астрономии в практической деятельности человека и дальнейшем научно-техническом развитии, роли физики в формировании кругозора и функциональной грамотности человека для решения практических задач;</p> <p>ПРб 3 - владеть основополагающими физическими понятиями и величинами, характеризующими физические процессы (связанными с механическим движением, взаимодействием тел, механическими</p>

	<p>MP 09 - владеть навыками учебно-исследовательской и проектной деятельности, навыками разрешения проблем;</p> <p>MP 14 - выявлять причинно-следственные связи и актуализировать задачу, выдвигать гипотезу ее решения, находить аргументы для доказательства своих утверждений, задавать параметры и критерии решения;</p> <p>MP 15 - анализировать полученные в ходе решения задачи результаты, критически оценивать их достоверность, прогнозировать изменение в новых условиях;</p> <p>MP 18 - уметь переносить знания в познавательную и практическую области жизнедеятельности;</p> <p>MP 19 - уметь интегрировать знания из разных предметных областей;</p> <p>MP 20 - выдвигать новые идеи, предлагать оригинальные подходы и решения.</p>	<p>колебаниями и волнами; атомно-молекулярным строением вещества, тепловыми процессами; электрическим и магнитным полями, электрическим током, электромагнитными колебаниями и волнами; оптическими явлениями; квантовыми явлениями, строением атома и атомного ядра, радиоактивностью); владение основополагающими астрономическими понятиями, позволяющими характеризовать процессы, происходящие на звездах, в звездных системах, в межгалактической среде; движение небесных тел, эволюцию звезд и Вселенной;</p> <p>ПРБ 4 - владеть закономерностями, законами и теориями (закон всемирного тяготения, I, II и III законы Ньютона, закон сохранения механической энергии, закон сохранения импульса, принцип суперпозиции сил, принцип равноправности инерциальных систем отсчета; молекулярно-кинетическую теорию строения вещества, газовые</p>
--	---	---

		<p>законы, первый закон термодинамики; закон сохранения электрического заряда, закон Кулона, закон Ома для участка цепи, закон Ома для полной электрической цепи, закон Джоуля-Ленца, закон электромагнитной индукции, закон сохранения энергии, закон прямолинейного распространения света, закон отражения света, закон преломления света; закон сохранения энергии, закон сохранения импульса, закон сохранения электрического заряда, закон сохранения массового числа, постулаты Бора, закон радиоактивного распада); уверенное использование законов и закономерностей при анализе физических явлений и процессов;</p> <p>ПР6 7 - сформировать умения решать расчетные задачи с явно заданной физической моделью, используя физические законы и принципы; на основе анализа условия задачи выбирать физическую модель, выделять физические величины и формулы, необходимые для ее решения, проводить расчеты и</p>
--	--	---

		оценивать реальность полученного значения физической величины; решать качественные задачи, выстраивая логически непротиворечивую цепочку рассуждений с опорой на изученные законы, закономерности и физические явления.
<p>ОК 02. Использовать современные средства поиска, анализа и интерпретации информации, и информационные технологии для выполнения задач профессиональной деятельности</p>	<p><i>В области ценности научного познания:</i> ЛР 33 - сформированность мировоззрения, соответствующего современному уровню развития науки и общественной практики, основанного на диалоге культур, способствующего осознанию своего места в поликультурном мире; ЛР 35 - осознание ценности научной деятельности, готовность осуществлять проектную и исследовательскую деятельность индивидуально и в группе; - <i>Овладение универсальными учебными познавательными действиями:</i> а) работа с информацией: МР 21 - владеть навыками получения информации из источников разных типов, самостоятельно осуществлять поиск, анализ, систематизацию и интерпретацию информации различных видов и форм представления; МР 23 - оценивать достоверность, легитимность информации, ее соответствие правовым и морально-</p>	<p>ПР6 5 -уметь учитывать границы применения изученных физических моделей: материальная точка, инерциальная система отсчета, идеальный газ; модели строения газов, жидкостей и твердых тел, точечный электрический заряд, ядерная модель атома, нуклонная модель атомного ядра при решении физических задач.</p>

	<p>этическим нормам; МР 24 - использовать средства информационных и коммуникационных технологий в решении когнитивных, коммуникативных и организационных задач с соблюдением требований эргономики, техники безопасности, гигиены, ресурсосбережения, правовых и этических норм, норм информационной безопасности;</p>	
<p>ОК 03. Планировать и реализовывать собственное профессиональное и личностное развитие, предпринимательскую деятельность в профессиональной сфере, использовать знания по финансовой грамотности в различных жизненных ситуациях</p>	<p><i>Овладение универсальными регулятивными действиями:</i> а) самоорганизация: МР 36 - самостоятельно осуществлять познавательную деятельность, выявлять проблемы, ставить и формулировать собственные задачи в образовательной деятельности и жизненных ситуациях; МР 37- самостоятельно составлять план решения проблемы с учетом имеющихся ресурсов, собственных возможностей и предпочтений; давать оценку новым ситуациям; МР 41 - способствовать формированию и проявлению широкой эрудиции в разных областях знаний, постоянно повышать свой образовательный и культурный уровень; б) самоконтроль: МР 43 - владеть навыками познавательной рефлексии как осознания совершаемых действий и мыслительных процессов, их результатов и оснований; использовать</p>	<p>ПРБ 6 - владеть основными методами научного познания, используемыми в физике: проводить прямые и косвенные измерения физических величин, выбирая оптимальный способ измерения и используя известные методы оценки погрешностей измерений, проводить исследование зависимостей физических величин с использованием прямых измерений, объяснять полученные результаты, используя физические теории, законы и понятия, и делать выводы; соблюдать правила безопасного труда при проведении исследований в рамках учебного эксперимента и учебно-исследовательской деятельности с использованием</p>

	<p>приемы рефлексии для оценки ситуации, выбора верного решения;</p> <p>МР 44 - уметь оценивать риски и своевременно принимать решения по их снижению;</p>	<p>цифровых измерительных устройств и лабораторного оборудования;</p>
<p>ОК 04. Эффективно взаимодействовать и работать в коллективе и команде</p>	<p>ЛР 27 - готовность и способность к образованию и саморазвитию, самостоятельности и самоопределению;</p> <p>МР 09 - овладение навыками учебно-исследовательской, проектной и социальной деятельности;</p> <p>Овладение универсальными коммуникативными действиями:</p> <p>б) совместная деятельность:</p> <p>МР 30 - понимать и использовать преимущества командной и индивидуальной работы;</p> <p>МР 32 - принимать цели совместной деятельности, организовывать и координировать действия по ее достижению:</p> <p>составлять план действий, распределять роли с учетом мнений участников обсуждать результаты совместной работы;</p> <p>МР 35 - осуществлять позитивное стратегическое поведение в различных ситуациях, проявлять творчество и воображение, быть инициативным</p> <p>Овладение универсальными регулятивными действиями:</p> <p>г) принятие себя и других людей:</p> <p>МР 47 - принимать мотивы и аргументы других людей при анализе результатов деятельности;</p>	<p>ПРб 10 - овладеть умениями работать в группе с выполнением различных социальных ролей, планировать работу группы, рационально распределять деятельность в нестандартных ситуациях, адекватно оценивать вклад каждого из участников группы в решение рассматриваемой проблемы.</p>

	<p>МР 48 - признавать свое право и право других людей на ошибки;</p> <p>МР 49- развивать способность понимать мир с позиции другого человека.</p>	
<p>ОК 05. Осуществлять устную и письменную коммуникацию на государственном языке Российской Федерации с учетом особенностей социального и культурного контекста</p>	<p><i>В области эстетического воспитания:</i></p> <p>ЛР 16- эстетическое отношение к миру, включая эстетику научного творчества, присущего физической науке;</p> <p><i>Овладение универсальными коммуникативными действиями:</i> а) общение:</p> <p>МР 26 - осуществлять коммуникации во всех сферах жизни;</p> <p>МР 27 - распознавать невербальные средства общения, понимать значение социальных знаков, распознавать предпосылки конфликтных ситуаций и смягчать - осуществлять коммуникации во всех сферах жизни;</p> <p>МР 28 - распознавать невербальные средства общения, понимать значение социальных знаков, распознавать предпосылки конфликтных ситуаций и смягчать конфликты;</p> <p>МР 29 - развернуто и логично излагать свою точку зрения с использованием языковых средств.</p>	<p>ПР6 2 - уметь распознавать физические явления (процессы) и объяснять их на основе изученных законов:</p> <p>равномерное и равноускоренное прямолинейное движение, свободное падение тел, движение по окружности, инерция, взаимодействие тел, колебательное движение, резонанс, волновое движение; диффузия, броуновское движение, строение жидкостей и твердых тел, изменение объема тел при нагревании (охлаждении), тепловое равновесие, испарение, конденсация, плавление, кристаллизация, кипение, влажность воздуха, связь средней кинетической энергии теплового движения молекул с абсолютной температурой, повышение давления газа при его нагревании в закрытом сосуде, связь между параметрами состояния газа в изопроцессах; электризация тел, взаимодействие зарядов, нагревание</p>

		<p>проводника с током, взаимодействие магнитов, электромагнитная индукция, действие магнитного поля на проводник с током и движущийся заряд, электромагнитные колебания и волны, прямолинейное распространение света, отражение, преломление, интерференция, дифракция и поляризация света, дисперсия света; фотоэлектрический эффект, световое давление, возникновение линейчатого спектра атома водорода, естественная и искусственная радиоактивность.</p>
<p>ОК 07. Содействовать сохранению окружающей среды, ресурсосбережению, применять знания об изменении климата, принципы бережливого производства, эффективно действовать в чрезвычайных ситуациях</p>	<p>В области экологического воспитания: ЛР 30 - активное неприятие действий, приносящих вред окружающей среде; ЛР 31 - умение прогнозировать неблагоприятные экологические последствия предпринимаемых действий, предотвращать их; ЛР 32 - расширение опыта деятельности экологической направленности на основе знаний по физике.</p>	<p>ПРб 8 - сформированность умения применять полученные знания для объяснения условий протекания физических явлений в природе и для принятия практических решений в повседневной жизни для обеспечения безопасности при обращении с бытовыми приборами и техническими устройствами, сохранения здоровья и соблюдения норм экологического поведения в окружающей среде; понимание необходимости применения достижений физики и</p>

		технологий для рационального природопользования.
<p>ПК 1.1. Выбирать и соблюдать режимы содержания животных, составлять рационы кормления.</p>	<p>ЛР 01 - сформированность гражданской позиции обучающегося как активного и ответственного члена российского общества; ЛР 02 - осознание своих конституционных прав и обязанностей, уважение закона и правопорядка; МР 01 - самостоятельно формулировать и актуализировать проблему, рассматривать ее всесторонне; МР 14 - выявлять причинно-следственные связи и актуализировать задачу, выдвигать гипотезу ее решения, находить аргументы для доказательства своих утверждений, задавать параметры и критерии решения; МР 15 - анализировать полученные в ходе решения задачи результаты, критически оценивать их достоверность, прогнозировать изменение в новых условиях; МР 16 - давать оценку новым ситуациям, оценивать приобретенный опыт; МР 35 - осуществлять позитивное стратегическое поведение в различных ситуациях проявлять творчество и воображение, быть инициативным; МР 37 - самостоятельно составлять план решения проблемы с учетом имеющихся ресурсов, собственных возможностей и предпочтений; давать оценку новым ситуациям.</p>	<p>ПР6 3 - владение основополагающими физическими понятиями и величинами, характеризующими физические процессы (связанными с механическим движением, взаимодействием тел, механическими колебаниями и волнами; атомно-молекулярным строением вещества, тепловыми процессами; электрическим и магнитным полями, электрическим током, электромагнитными колебаниями и волнами; оптическими явлениями; квантовыми явлениями, строением атома и атомного ядра, радиоактивностью); ПР6 7 сформированность умения решать расчетные задачи с явно заданной физической моделью, используя физические законы и принципы; на основе анализа условия задачи выбирать физическую модель, выделять физические величины и формулы, необходимые для ее решения, проводить расчеты и оценивать реальность полученного</p>

		<p>значения физической величины; решать качественные задачи, выстраивая логически непротиворечивую цепочку рассуждений с опорой на изученные законы, закономерности и физические явления; ПРБ 8 - сформированность умения применять полученные знания для объяснения условий протекания физических явлений в природе и для принятия практических решений в повседневной жизни для обеспечения безопасности при обращении с бытовыми приборами и техническими устройствами, сохранения здоровья и соблюдения норм экологического поведения в окружающей среде; понимание необходимости применения достижений физики и технологий для рационального природопользования.</p>
<p>ПК 3.3. Контролировать состояния продукции животноводства в период хранения.</p>	<p>ЛР 01 - сформированность гражданской позиции обучающегося как активного и ответственного члена российского общества; ЛР 02 - осознание своих конституционных прав и обязанностей, уважение закона и правопорядка;</p>	<p>ПРБ 3 - владение основополагающими физическими понятиями и величинами, характеризующими физические процессы (связанными с механическим движением, взаимодействием тел, механическими</p>

	<p>ЛР 24 - готовность к труду, осознание ценности мастерства, трудолюбие;</p> <p>ЛР 27 - готовность и способность к образованию и самообразованию на протяжении всей жизни;</p> <p>ЛР 35 - осознание ценности научной деятельности, готовность осуществлять проектную и исследовательскую деятельность индивидуально и в группе.</p> <p>МР 01 - самостоятельно формулировать и актуализировать проблему, рассматривать ее всесторонне;</p> <p>МР 14 - выявлять причинно-следственные связи и актуализировать задачу, выдвигать гипотезу ее решения, находить аргументы для доказательства своих утверждений, задавать параметры и критерии решения;</p> <p>МР 15 - анализировать полученные в ходе решения задачи результаты, критически оценивать их достоверность, прогнозировать изменение в новых условиях;</p> <p>МР 16 - давать оценку новым ситуациям, оценивать приобретенный опыт;</p> <p>МР 27 - распознавать невербальные средства общения, понимать значение социальных знаков, распознавать предпосылки конфликтных ситуаций и смягчать конфликты;</p>	<p>колебаниями и волнами; атомно-молекулярным строением вещества, тепловыми процессами; электрическим и магнитным полями, электрическим током, электромагнитными колебаниями и волнами; оптическими явлениями; квантовыми явлениями, строением атома и атомного ядра, радиоактивностью);</p> <p>ПР6 7 сформированность умения решать расчетные задачи с явно заданной физической моделью, используя физические законы и принципы; на основе анализа условия задачи выбирать физическую модель, выделять физические величины и формулы, необходимые для ее решения, проводить расчеты и оценивать реальность полученного значения физической величины; решать качественные задачи, выстраивая логически непротиворечивую цепочку рассуждений с опорой на изученные законы, закономерности и физические явления;</p> <p>ПР6 8 - сформированность умения</p>
--	---	---

	<p>MP 28 - владеть различными способами общения и взаимодействия; аргументированно вести диалог, уметь смягчать конфликтные ситуации;</p> <p>MP 35 - осуществлять позитивное стратегическое поведение в различных ситуациях проявлять творчество и воображение, быть инициативным;</p> <p>MP 37 - самостоятельно составлять план решения проблемы с учетом имеющихся ресурсов, собственных возможностей и предпочтений; давать оценку новым ситуациям.</p>	<p>применять полученные знания для объяснения условий протекания физических явлений в природе и для принятия практических решений в повседневной жизни для обеспечения безопасности при обращении с бытовыми приборами и техническими устройствами, сохранения здоровья и соблюдения норм экологического поведения в окружающей среде; понимание необходимости применения достижений физики и технологий для рационального природопользования.</p>
--	--	--

1.4. Характеристики оценочных средств

п/п	Наименование оценочного средства	Краткая характеристика оценочного средства
1.	Реферат	Продукт самостоятельной работы обучающегося, представляющий собой краткое изложение в письменном виде полученных результатов теоретического анализа определенной учебно-исследовательской темы, где автор раскрывает суть исследуемой проблемы, приводит различные точки зрения, а также собственные взгляды на нее.
2.	Доклад, сообщение	Расширенное письменное или устное сообщение на основе совокупности ранее опубликованных исследовательских, научных разработок, по соответствующей отрасли научных знаний, имеющих значение для теории науки и практического применения. Представляет собой обобщённое изложение результатов проведённых исследований, экспериментов и разработок, известных широкому кругу специалистов в отрасли научных знаний.
3.	Физический диктант	Набор материалов, направленных на проверку знания обучающимися основных понятий дисциплины.
4.	Контрольная работа	Контрольные работы проводятся с целью определения конечного результата в обучении по данной теме или разделу, позволяют контролировать знания одного и того же материала неоднократно. Целесообразно проводить контрольные работы различного вида. С помощью промежуточной контрольной работы проверяется усвоение обучающимися материала в период изучения темы. Итоговая контрольная работа проводится с целью проверки знаний и умений по отдельной теме, курсу.
5.	Конспект	Конспект позволяет формировать и оценивать умения обучающихся по переработке информации.

6.	Практическая работа	<p>Практическая работа — это задание для студента, которое должно быть выполнено по теме, определенной преподавателем. Предполагается также использование рекомендованной практической работе и плана изучения материала. Рассматриваемое задание в ряде случаев включает дополнительную проверку знаний студента — посредством тестирования или, например, написания контрольной работы.</p> <p>Главная цель проведения практической работы заключается в выработке у студента практических умений – решения задач, связанных с обобщением и интерпретацией тех или иных научных материалов. Кроме того, ожидается, что результаты практических занятий будут впоследствии использоваться обучающимися для освоения новых тем.</p>
7.	Лабораторная работа	<p>Учебное занятие, в рамках которого осуществляется тот или иной научный эксперимент, направленный на получение результатов, имеющих значение с точки зрения успешного освоения студентами учебной программы.</p> <p>В процессе лабораторной работы студент:</p> <ul style="list-style-type: none"> – изучает практический ход тех или иных процессов, исследует явления в рамках заданной темы — применяя методы, освоенные на лекциях; – сопоставляет результаты концепциями; – осуществляет интерпретацию итогов лабораторной работы, оценивает применимость полученных данных на практике, в качестве источника научного знания.
8	Кейс-задание	<p>Проблемное задание, в котором обучающемуся предлагают осмыслить реальную профессионально-ориентированную ситуацию, необходимую для решения данной проблемы.</p>
9.	Тест	<p>Система стандартизированных заданий, позволяющая автоматизировать процедуру измерения уровня знаний и умений обучающегося.</p>

10.	Дифференцированный зачёт	Контрольное мероприятие, которое проводится по окончании изучения дисциплины в виде, предусмотренном учебным планом.
-----	--------------------------	--

2. Формы контроля и оценивания формируемых компетенций

Код и наименование формируемых компетенций	Раздел/Тема	Входной контроль	Текущий контроль	Рубежный контроль	Промежуточная аттестация
		Оценочное средство			
<p>ОК 01. Выбирать способы решения задач профессиональной деятельности применительно к различным контекстам</p> <p>ОК 02. Использовать современные средства поиска, анализа и интерпретации информации, и информационные технологии для выполнения задач профессиональной деятельности</p> <p>ОК 03. Планировать и реализовывать собственное профессиональное и</p>	<p>Раздел 1. «Механика», темы 1.1. «Основы кинематики», 1.2 «Основы динамики», 1.3 «Законы сохранения в механике». Раздел 2. «Молекулярная физика», темы 2.1. «Основы молекулярно-кинетической теории», 2.2. «Основы термодинамики», 2.3. «Агрегатные состояния вещества и фазовые переходы». Раздел 3. «Электродинамика», темы 3.1. «Электрическое поле», 3.2. «Законы постоянного тока», 3.3. «Электрический ток в различных средах», 3.4. «Магнитное поле», 3.5.</p>	<p>- контрольная работа</p>	<p>- фронтальный опрос; - оценка выполнения лабораторных работ; - оценка практических работ (решения качественных, расчетных, профессионально ориентированных задач); - оценка тестовых заданий.</p>	<p>- оценка контрольных работ;</p>	<p>дифференцированный зачет</p>

<p>личностное развитие, предпринимательскую деятельность в профессиональной сфере, использовать знания по финансовой грамотности в различных жизненных ситуациях</p>	<p>«Электромагнитная индукция» Раздел 4. «Колебания и волны», темы 4.1. «Механические колебания и волны», 4.2. «Электромагнитные колебания и волны». Раздел 5. «Оптика», темы 5.1. «Природа света», 5.2. «Волновые свойства света», 5.3 «Специальная теория относительности». Раздел 6. «Квантовая физика», темы 6.1. «Квантовая физика», 6.2. «Физика атома и атомного ядра».</p>				
<p>ОК 04. Эффективно взаимодействовать и работать в коллективе и команде</p>					
<p>ОК 05. Осуществлять устную и письменную коммуникацию на государственном языке Российской Федерации с учетом особенностей социального и культурного контекста</p>					
<p>ОК 07. Содействовать сохранению окружающей среды, ресурсосбережению, применять знания об изменении климата,</p>					

<p>принципы бережливого производства, эффективно действовать в чрезвычайных ситуациях</p>					
<p>ПК 1.1. Выбирать и соблюдать режимы содержания животных, составлять рационы кормления.</p>	<p>Раздел 1. Механика. темы 1.1 Основы кинематики, 1.2. Основы динамики, 1.3. Законы сохранения в механике.</p>		<p>- фронтальный опрос; - оценка выполнения лабораторных работ;</p>	<p>- оценка контрольных работ; -</p>	
<p>ПК 3.3. Контролировать состояния продукции животноводства в период хранения.</p>	<p>Раздел 2. Молекулярная физика. Темы 2.1 Основы молекулярно-кинетической теории, 2.2 Основы термодинамики, 2.3 Агрегатные состояния вещества и фазовые переходы. Раздел 3. «Электродинамика» темы 3.1 Электрическое поле, 3.2 Законы постоянного тока, 3.3 Электрический ток в</p>		<p>- оценка практических работ (решения качественных, расчетных, профессионально ориентированных задач); - оценка тестовых заданий.</p>		

	<p>различных средах, 3.4 Магнитное поле, 3.5 Электромагнитная индукция Раздел 4. «Колебания и волны» темы 4.1 Механические колебания и волны, 4.2 Электромагнитные колебания и волны.</p>				
--	---	--	--	--	--

3. Критерии оценивания формируемых компетенций

Критерии оценки учебной деятельности по «Физике»

Результатом проверки уровня усвоения учебного материала является отметка. При оценке знаний учащихся предполагается обращать внимание на правильность, осознанность, логичность и доказательность в изложении материала, точность использования физической терминологии, самостоятельность ответа. Оценка знаний предполагает учёт индивидуальных особенностей учащихся, дифференцированный подход к организации работы.

Исходя из поставленных целей, учитывается:

- Правильность и осознанность изложения содержания, полноту раскрытия понятий, точность употребления научных терминов.
- Степень формирования интеллектуальных и общеучебных умений.
- Самостоятельность ответа, решение задач.
- Речевую грамотность и логическую последовательность ответа.

Критерии оценки рефератов, докладов, сообщений, конспектов:

№	Критерии оценки	Баллы	Оценка
1.	Соответствие целям и задачам дисциплины, актуальность темы и рассматриваемых проблем, соответствие содержания заявленной теме, заявленная тема полностью раскрыта, рассмотрение дискуссионных вопросов по проблеме, сопоставлены различные точки зрения по рассматриваемому вопросу, научность языка изложения, логичность и последовательность в изложении материала, количество исследованной литературы, в том числе новейших источников по проблеме, четкость выводов, оформление работы соответствует предъявляемым требованиям.	5	Отлично
2.	Соответствие целям и задачам дисциплины, актуальность темы и рассматриваемых проблем, соответствие содержания заявленной теме, научность языка изложения, заявленная тема раскрыта недостаточно полно, отсутствуют новейшие литературные	4	Хорошо

	источники по проблеме, при оформлении работы имеются недочеты.		
3.	Соответствие целям и задачам дисциплины, содержание работы не в полной мере соответствует заявленной теме, заявленная тема раскрыта недостаточно полно, использовано небольшое количество научных источников, нарушена логичность и последовательность в изложении материала, при оформлении работы имеются недочеты.	3	Удовлетворительно
4.	Работа не соответствует целям и задачам дисциплины, содержание работы не соответствует заявленной теме, содержание работы изложено не научным стилем.	2-0	Неудовлетворительно

Критерии оценки *физического диктанта*:

№	Критерии оценки	Баллы	Оценка
1.	Студент знает определения и формулы всех понятий дисциплины, все задания выполнены правильно	5	Отлично
2.	Даны грамотные определения всех представленных понятий, однако имеются отдельные недочёты.	4	Хорошо
3.	Большая часть заданий выполнена правильно, но все ответы имеют недочёты; все определения и формулы представлены, но допущено несколько грубых ошибок;	3	Удовлетворительно
4.	Большая часть заданий не выполнена; ответ содержит грубые ошибки; неприемлемый уровень освоения материала, требуется дополнительная работа.	2-0	Неудовлетворительно

Критерии оценки контрольной работы

№	Критерии оценки	Баллы	Оценка
1.	<ul style="list-style-type: none"> - контрольная работа представлена в установленный срок и оформлена в строгом соответствии с изложенными требованиями; - показан высокий уровень знания изученного материала по заданной теме, проявлен творческий подход при ответе на вопросы, умение глубоко анализировать проблему и делать обобщающие выводы; - работа выполнена грамотно с точки зрения поставленной задачи, т.е. без ошибок и недочетов или допущено не более одного недочета. 	5	Отлично
2.	<ul style="list-style-type: none"> - контрольная работа представлена в установленный срок и оформлена в соответствии с изложенными требованиями; - показан достаточный уровень знания изученного материала по заданной теме, проявлен творческий подход при ответе на вопросы, умение анализировать проблему и делать обобщающие выводы; - работа выполнена полностью, но допущено в ней: <ul style="list-style-type: none"> а) не более одной негрубой ошибки и одного недочета б) или не более двух недочетов. 	4	Хорошо
3.	<ul style="list-style-type: none"> - контрольная работа представлена в установленный срок, при оформлении работы допущены незначительные отклонения от изложенных требований; - показаны минимальные знания по основным темам контрольной работы; - выполнено не менее половины работы или допущены в ней <ul style="list-style-type: none"> а) не более двух грубых ошибок, б) не более одной грубой ошибки и одного недочета, в) не более двух-трех негрубых ошибок, г) одна негрубая ошибка и три недочета, д) при отсутствии ошибок, 4-5 недочетов 	3	Удовлетворительно

4.	<ul style="list-style-type: none"> - число ошибок и недочетов превосходит норму, при которой может быть выставлена оценка «удовлетворительно» или если правильно выполнено менее половины работы; - если обучающийся не приступал к выполнению работы или правильно выполнил не более 10 процентов всех заданий. 	2-0	Неудовл етворите льно
----	--	-----	-----------------------------

Критерии оценки *практического задания*

№	Критерии оценки	Баллы	Оценка
1.	<ul style="list-style-type: none"> – практическое задание выполнено в установленный срок с использованием рекомендаций преподавателя; – показан высокий уровень знания изученного материала по заданной теме, – проявлен творческий подход, – умение глубоко анализировать проблему и делать обобщающие практико-ориентированные выводы; – работа выполнена без ошибок и недочетов или допущено не более одного недочета. 	5	Отлично
2.	<ul style="list-style-type: none"> – практическое задание выполнено в установленный срок с использованием рекомендаций преподавателя; – показан хороший уровень владения изученным материалом по заданной теме, – работа выполнена полностью, но допущено в ней: <ul style="list-style-type: none"> а) не более одной негрубой ошибки и одного недочета, б) или не более двух недочетов. 	4	Хорошо

3.	<p>- практическое задание выполнено в установленный срок с частичным использованием рекомендаций преподавателя;</p> <p>- продемонстрированы минимальные знания по основным темам изученного материала;</p> <p>- выполнено не менее половины работы или допущены в ней</p> <p>а) не более двух грубых ошибок,</p> <p>б) не более одной грубой ошибки и одного недочета,</p> <p>в) не более двух-трех негрубых ошибок,</p> <p>г) одна негрубая ошибка и три недочета,</p> <p>д) при отсутствии ошибок, 4-5 недочетов</p>	3-2	Удовлетворительно
4.	<p>- число ошибок и недочетов превосходит норму, при которой может быть выставлена оценка «удовлетворительно» или если правильно выполнено менее половины задания;</p> <p>—если обучающийся не приступал к выполнению задания или правильно выполнил не более 10 процентов всех заданий.</p>	1-0	Неудовлетворительно

Критерии оценки устных *ответов*

№	Критерии оценки	Оценка
---	-----------------	--------

1.	<p>Обнаруживает полное понимание физической сущности рассматриваемых явлений и закономерностей, знание законов и теорий, умеет подтвердить их конкретными примерами, применить в новой ситуации и при выполнении практических заданий;</p> <ul style="list-style-type: none"> - дает точное определение и истолкование основных понятий, законов, теорий, а также правильное определение физических величин, их единиц и способов измерения; - технически грамотно выполняет физические опыты, чертежи, схемы и графики, сопутствующие ответу, правильно записывает формулы, пользуясь принятой системой условных обозначений; - при ответе не повторяет дословно текст учебника, а умеет отобрать главное, обнаруживает самостоятельность и аргументированность суждений, умеет установить связь между изучаемым и ранее изученным материалом по курсу физики, а также с материалом, усвоенным при изучении других смежных предметов; - умеет подкрепить ответ несложными демонстрационными опытами; - умеет делать анализ, обобщения и собственные выводы по отмечаемому вопросу; - умеет самостоятельно и рационально работать с учебником, дополнительной литературой и справочниками. 	Отлично
2.	<p>Удовлетворяет названным выше требованиям, но обучающийся:</p> <ul style="list-style-type: none"> - допускает одну негрубую ошибку или не более двух недочетов и может их исправить самостоятельно, или при помощи небольшой помощи преподавателя; - не обладает достаточным навыком работы со справочной литературой (например, студент 	Хорошо

	умеет все найти, правильно ориентируется в справочниках, но работает медленно)	
3.	<p>Правильно понимает физическую сущность рассматриваемых явлений и закономерностей, но при ответе:</p> <ul style="list-style-type: none"> - обнаруживает отдельные пробелы в усвоении существенных вопросов курса физики, не препятствующие дальнейшему усвоению программного материала; - испытывает затруднения в применении знаний, необходимых для решения задач различных типов, при объяснении конкретных физических явлений на основе теорий и законов, или в подтверждении конкретных примеров практического применения теорий; - отвечает неполно на вопросы преподавателя, или воспроизводит содержание текста учебника, но недостаточно понимает отдельные важные положения, в этом тексте; - обнаруживает недостаточное понимание отдельных положений при воспроизведении текста учебника, или отвечает неполно на вопросы преподавателя, допуская одну - две грубые ошибки. 	Удовлетворительно
4.	<p>Не знает и не понимает значительную или основную часть программного материала в пределах поставленных вопросов. Имеет слабо сформированные и неполные знания и не умеет применять их к решению конкретных вопросов и задач по образцу и к проведению опытов. При ответе (на один вопрос) допускает более двух грубых ошибок, которые не может исправить даже при помощи преподавателя.</p>	Неудовлетворительно

Критерии оценки лабораторных работ

№	Критерии оценки	Оценка
---	-----------------	--------

1.	<ul style="list-style-type: none"> – студент выполнил всю работу в полном объеме с соблюдением необходимой последовательности проведения опытов и измерений; – самостоятельно и рационально смонтировал необходимое оборудование, все опыты провел в условиях и режимах, обеспечивающих получение правильных результатов и выводов; - соблюдал требования безопасности труда; - в отчете правильно и аккуратно выполнил все записи, таблицы, рисунки, чертежи, графики, вычисления; - правильно выполнил анализ погрешностей 	Отлично
2.	- были выполнены требования к оценке «5», но обучающийся допустил неточности.	Хорошо
3.	если результат выполненной части таков, что позволяет получить правильные выводы, но в ходе проведения опыта и измерений были допущены ошибки.	Удовлетворительно
4.	- если результаты не позволяют сделать правильных выводов, если опыты, измерения, вычисления, наблюдения производились неправильно, когда обучающийся совсем не выполнил работу.	Неудовлетворительно

Во всех случаях оценка снижается, если обучающийся не соблюдал требования безопасности труда. В тех случаях, когда обучающийся показал оригинальный подход к выполнению работы, но в отчете содержатся недостатки, оценка за выполнение работы по усмотрению преподавателя может быть повышена по сравнению с указанными нормами.

Таблица соответствия балльно-рейтингового и отметочного контроля

Уровень сформированности компетенций	Сумма рейтинговых баллов	Традиционная оценка
Повышенный	90-100	Отлично
Базовый	75-89	Хорошо
Пороговый	60-74	Удовлетворительно

Недостаточный	Менее 60	Неудовлетворительный
---------------	----------	----------------------

Критерии оценки дифференцированного зачёта

Промежуточная аттестация осуществляется в виде дифференцированного зачёта.

Дифференцированный зачет – преследует цель оценить работу студента за семестр, полученные теоретические знания, их прочность, развитие творческого мышления, приобретение навыков самостоятельной работы, умение синтезировать полученные знания и применять их к решению практических задач.

№	Критерии оценки	Баллы	Оценка
1	<p>Обучающийся при ответе на все вопросы:</p> <ul style="list-style-type: none"> - проявил глубокие, творческие способности в понимании изложения учебно-программного материала; показывает высокий уровень компетентности; - усвоил взаимосвязь основных понятий и дисциплин, их значение для приобретаемой профессии; анализирует основные понятия с точки зрения различных авторов, демонстрируя знание учебной, периодической и монографической литературы, законодательства в рамках тематики дисциплины и практики его применения; - показывает все сторонние и систематические знания теоретического материала; видит междисциплинарные связи; - профессионально, грамотно, последовательно, хорошим языком четко излагает материал, аргументировано формулирует выводы; - полно, грамотно и последовательно изложил ответы на все дополнительные вопросы и задания. 	5	Отлично
2	<ul style="list-style-type: none"> - показывает достаточный уровень компетентности, знания лекционного материала, учебной и методической литературы, законодательства и практики его применения; - показывает полное, но недостаточно глубокое знание учебно-программного материала, допустил какие-либо неточности в ответах, 	4	Хорошо

	<p>свободно оперирует понятиями, методами оценки принятия решений;</p> <ul style="list-style-type: none"> - имеет представление о междисциплинарных связях, увязывает знания, полученные при изучении различных дисциплин, умеет анализировать практические ситуации, но допускает некоторые погрешности; - уверенно и профессионально, грамотным языком, ясно, четко и понятно излагает состояние и суть вопроса; привлекается информативный и иллюстрированный материал, но при ответе допускает некоторые погрешности; - вопросы, задаваемые экзаменатором, не вызывают существенных затруднений. <p>Допускается 1-2 незначительные ошибки.</p>		
3	<ul style="list-style-type: none"> - показывает поверхностные знания учебно-программного материала, при ответе отсутствует должная связь между анализом, аргументацией и выводами; однако в целом в полнее ориентируется в профилирующих для данной специальности дисциплинах; - владеет практическими навыками, но чувствует себя не уверенно при анализе междисциплинарных связей; - на поставленные вопросы отвечает не уверенно; - в ответе допущен ряд логических ошибок, аргументы привлекаются недостаточно веские; - ответ композиционно не выстроен, демонстрируется средний уровень владения литературным языком при формулировании тезисов и аргументов; - на поставленные комиссией вопросы затрудняется с ответами, показывает недостаточно глубокие знания. <p>Допускается не более 3-4 ошибок.</p>	3	Удовлетворительно
4	<ul style="list-style-type: none"> - не усвоил значительную часть учебно-программного материала или показывает крайне слабые знания учебного материала, низкий уровень компетентности; - демонстрирует крайне неуверенное изложение вопроса; 	2-0	Неудовлетворительно

<p>- имеет слабый уровень профессиональных знаний, затрудняется при анализе практических ситуаций; не может привести примеры из реальной практики;</p> <p>- не уверенно и логически не последовательно излагает материал; в ответе присутствуют серьезные нарушения композиционные, речевые и нормативные;</p> <p>- неправильно отвечает на поставленные экзаменатором вопросы или затрудняется с ответом; отказывается от ответа.</p> <p>Ставится при наличии свыше пяти ошибок.</p>		
---	--	--

Перечень ошибок:

Грубые ошибки:

1. Незнание определений основных понятий, законов, правил, основных положений теории, формул, общепринятых символов обозначения физических величин, единиц их измерения.
2. Неумение выделить в ответе главное.
3. Неумение применять знания для решения задач и объяснения физических явлений; неправильно сформулированные вопросы задачи или неверные объяснения хода ее решения; незнание приемов решения задач, аналогичных ранее решенным в классе, ошибки, показывающие неправильное понимание условия задачи или неправильное истолкование решения.
4. Неумение читать и строить графики и принципиальные схемы.
5. Неумение подготовить к работе установку или лабораторное оборудование, провести опыт, необходимые расчеты, или использовать полученные данные для выводов.
6. Небрежное отношение к лабораторному оборудованию и измерительным приборам.
7. Неумение определить показание измерительного прибора.
8. Нарушение требований правил безопасного труда при выполнении эксперимента.

Негрубые ошибки:

1. Неточности формулировок, определений, понятий, законов, теорий, вызванные неполнотой охвата основных признаков определяемого понятия, ошибки, вызванные несоблюдением условий проведения опыта или измерений.
2. Ошибки в условных обозначениях на принципиальных схемах, неточности чертежей, графиков, схем.

3. Пропуск или неточное написание наименований единиц физических величин.
4. Нерациональный выбор хода решения.

Недочеты:

1. Нерациональные записи при вычислениях, нерациональные приемы вычисления, преобразований и решений задач.
2. Арифметические ошибки в вычислениях, если эти ошибки грубо не искажают реальность полученного результата.
3. Отдельные погрешности в формулировке вопроса или ответа.
4. Небрежное выполнение записей, чертежей, схем, графиков.
5. Орфографические и пунктуационные ошибки.

4. Контрольно-оценочные средства

4.1 Материалы оценочных средств для входного контроля

Контрольная работа

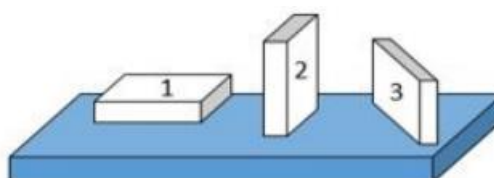
1. На рисунке показана мензурка с жидкостью. Выберите правильное утверждение.

- 1) Цена деления мензурки равна 2 мл.
- 2) Объем жидкости в мензурке больше 25 мл.
- 3) Цена деления мензурки равна 0,5 мл.
- 4) Мензурка – прибор для измерения объема газообразных тел.



2. На столе находятся три бруска одинаковых размеров и массы. Какой из них оказывает на стол меньшее давление?

- 1) 1.
- 2) 2.
- 3) 3.
- 4) Бруски оказывают одинаковое давление.



3. Установите соответствие между физическими понятиями и примерами. К каждой позиции первого столбца подберите соответствующую позицию из второго столбца и запишите в таблицу выбранные цифры под соответствующими буквами.

ФИЗИЧЕСКИЕ ПОНЯТИЯ

ПРИМЕРЫ

- | | |
|---|------------------|
| А) физическая величина | 1) теплопередача |
| Б) единица физической величины | 2) работа силы |
| В) прибор для измерения физической величины | 3) конвекция |
| | 4) манометр |
| | 5) миллиметр |

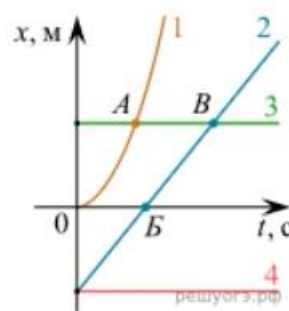
Запишите в ответ цифры, расположив их в порядке, соответствующем буквам

А	Б	В

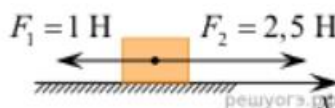
4. На рисунке представлены графики зависимости координаты x от времени t для четырёх тел, движущихся вдоль оси Ox .

Используя рисунок, выберите из предложенного перечня два верных утверждения. Укажите их номера.

- 1) Точка В соответствует встрече тел 2 и 3.
- 2) В точке Б направление скорости тела 2 изменилось на противоположное.
- 3) Тело 2 движется равноускорено.
- 4) Тело 3 движется равномерно прямолинейно.
- 5) В начальный момент времени тела 2 и 4 имели одинаковые координаты.



5. На покоящееся тело, находящееся на гладкой горизонтальной плоскости, в момент времени $t = 0$ начинают действовать две горизонтальные силы (см. рис.). Определите, как после этого изменяются со временем модуль скорости тела и модуль ускорения тела.



Для каждой величины определите соответствующий характер изменения:

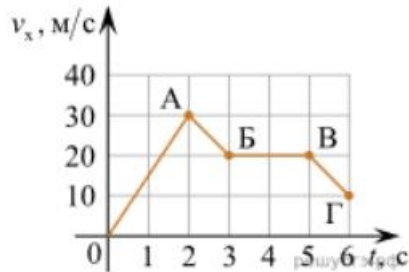
- 1) увеличивается
- 2) уменьшается
- 3) не изменяется

Запишите в таблицу выбранные цифры для каждой физической величины.

Цифры в ответе могут повторяться.

Модуль скорости	Модуль ускорения
-----------------	------------------

6. Дан график зависимости проекции скорости тела от времени. Какой участок графика соответствует равномерному движению тела?

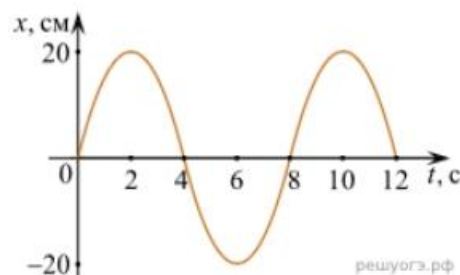


1. ОА
2. АБ
3. БВ
4. ВГ

7. Установите соответствие между формулами для расчёта физических величин и названиями этих величин. В формулах использованы обозначения: m — масса тела; v — скорость тела; a — ускорение тела. К каждой позиции первого столбца подберите соответствующую позицию второго столбца и запишите в таблицу выбранные цифры под соответствующими буквами.

ФОРМУЛА	ФИЗИЧЕСКАЯ ВЕЛИЧИНА
А) mv	1) работа силы
Б) ma	2) модуль импульса тела
	3) модуль равнодействующей силы
	4) давление

8. На рисунке представлен график зависимости координаты тела от времени.



Амплитуда и период колебаний равны:

- 1) 20 см; 4 с 2) 0,2 м; 6 с 3) 0,2 м; 8 с 4) 20 см; 12 с.

9. Установите соответствие (логическую пару). К каждой строке, отмеченной буквой, подберите формулу, обозначенную цифрой. Запишите в таблицу выбранные цифры под соответствующими буквами.

- А) Закон Гука
 Б) Закон всемирного тяготения
 В) Второй закон Ньютона
 Г) Сила Ампера

1. $G mM / r^2$
 2. $Bllsina$
 3. $k \Delta l$
 4. U / R
 5. ma

А	Б	В	Г

10. Сколько нейтронов содержит ядро изотопа магния $^{25}_{12}\text{Mg}$?
 1) 25 2) 12 3) 37 4) 13.

ОТВЕТЫ

1	2	3	4	5	6	7	8	9	10
3	1	А – 2 Б – 5 В – 4	15	13	3	А – 2 Б – 3	3	А – 3 Б – 1 В – 5 Г – 2	4

4.2 Материалы оценочных средств для текущего контроля

4.2.1. Вопросы для фронтального опроса

Раздел 1. Механика.

1. Какими величинами определяется положение тела (точки) в пространстве? Сколько таких величин?
2. Что такое система отсчёта?
3. Может ли координата быть отрицательной величиной?
4. Как, зная начальное положение тела и длину пройденного им пути, найти конечное положение тела?
5. Как связана скорость тела с изменением его положения при движении?
6. В чём состоит относительность движения?
7. Что такое средняя скорость? Как она определяется?
8. Что такое мгновенная скорость? Как направлен вектор мгновенной скорости?
9. Чем отличается мгновенная скорость при равномерном движении от мгновенной скорости при неравномерном движении?
10. Что такое ускорение и для чего его нужно знать?
11. Чем отличается «замедленное» прямолинейное движение от «ускоренного»?
12. Что такое равноускоренное движение?
13. Как направлен вектор ускорения при прямолинейном неравномерном движении?
14. Как направлена мгновенная скорость при криволинейном движении?

15. Могут ли совпадать направления векторов скорости и ускорения тела при его равномерном движении по окружности?
16. Может ли тело двигаться по окружности без ускорения?
17. Как направлено ускорение тела, движущегося по окружности с постоянной по модулю скорости?
18. Что такое период обращения?
19. Что такое частота обращения?
20. Как связаны между собой период и частота обращения?
21. Как связаны между собой центростремительное ускорение и скорость тела при движении по окружности?
22. В чём состоит явление инерции?
23. Сформулируйте первый закон Ньютона (закон инерции)?
24. При каких условиях тело может двигаться прямолинейно и равномерно?
25. Какие системы отсчёта используются в механике?
26. Что является причиной ускорения тела?
27. Можно ли мгновенно изменить скорость тела?
28. Какой величиной характеризуется инертность тела?
29. Как связаны между собой массы взаимодействующих тел и их ускорения?
30. Каким образом может быть измерена масса отдельного тела?
31. Что такое сила?
32. Что такое результирующая сила?
33. Как формулируется второй закон Ньютона?
34. Как формулируется третий закон Ньютона?
35. Перечислите виды сил в механике.
36. При каких условиях возникают силы упругости?
37. При каких условиях возникает деформация тела?
38. Что такое реакция опоры (подвеса)?
39. Сформулируйте и запишите закон всемирного тяготения.
40. Что такое сила тяжести?
41. Изменяется ли сила тяжести при удалении тела от поверхности Земли?
42. Что такое вес тела?
43. В чём различие между весом тела и силой тяжести, действующей на тело?
44. Тело покоится на опоре. Какие силы действуют на тело и опору?
45. В каких случаях тело находится в состоянии невесомости?
48. В чём состоит причина невесомости?
49. Как изменяется вес тела при его ускоренном движении вверх? Вниз?
50. При каких обстоятельствах возникает сила трения покоя? Как она направлена?
51. Что такое коэффициент трения?
52. Что такое сила трения скольжения? Как её найти?
53. Что такое импульс тела? Чему равен импульс тела? Как направлен модуль импульса тела? Как направлен вектор импульса тела?
54. Что такое импульс силы? Чему равен модуль импульса силы? Как направлен вектор импульса силы?
55. В чём состоит закон сохранения импульса?
56. В каком случае сила, приложенная к движущемуся телу, не совершает работу?

57. Что такое кинетическая энергия?
58. Чему равна работа силы тяжести на замкнутой траектории?
59. Тело движется вниз по наклонной плоскости без трения. Какая сила совершает при этом работу? Зависит ли работа от длины наклонной плоскости?
60. Как связана потенциальная энергия с работой силы тяжести?
61. Как изменяется потенциальная энергия тела при его движении вверх?
62. Чему равна потенциальная энергия упруго деформированного тела?
63. Что такое полная механическая энергия?
64. В чём состоит закон сохранения механической энергии?
65. Что такое мощность? В каких единицах она измеряется?
66. Как связаны между собой мощность, сила и скорость?

Раздел 2. Основы молекулярной физики и термодинамика.

1. Перечислите основные положения молекулярно-кинетической теории строения вещества.
2. Опишите явление диффузии.
3. Дайте определение количества вещества в СИ.
4. Чем обусловлено давление газа?
5. Какой газ называется идеальным?
6. Какие параметры связывает основное уравнение молекулярно-кинетической теории идеального газа?
7. Что называется теплопередачей?
8. Дайте определение внутренней энергии системы.
9. Дайте определение количества теплоты, полученного системой.
10. Сформулируйте первый и второй законы термодинамики.
11. Что такое парообразование и конденсация?
12. Что такое испарение, и от каких факторов зависит скорость испарения жидкости?
13. Что такое кипение?
14. От чего зависит температура кипения жидкости?
15. Что называется точкой кипения жидкости?
16. Какой пар называется насыщенным?
17. Зависит ли давление насыщенного пара от объёма? От температуры? От вещества?
18. Что называется точкой росы?
19. Что называется абсолютной влажностью воздуха? Относительной влажностью воздуха?
20. Какими приборами измеряют влажность воздуха?
21. Перечислите основные свойства жидкости.
22. Чем отличаются состояния молекул на поверхности и внутри жидкости?
23. Чем обусловлено появление поверхностных сил жидкости?
24. Какая жидкость называется смачивающей твёрдое тело? Не смачивающей?
25. Что является мерой смачивания жидкости?
26. Дайте определение критического состояния вещества.
27. Перечислите основные свойства твёрдого тела.
28. В чём отличие аморфного твёрдого тела от кристаллического?
29. Что называется деформацией твёрдого тела?
30. Какая деформация называется упругой? Не упругой?

31. Назовите виды упругих деформаций?
32. Какова особенность процессов плавления и кристаллизации твёрдого тела?

Раздел 3. Электродинамика.

1. Какое явление называется электризацией тел?
2. Как формулируется закон взаимодействия точечных зарядов?
3. Как формулируется закон сохранения электрического заряда?
4. Какое поле называется электростатическим?
5. Назовите силовую характеристику электрического поля.
6. Дайте определение линиям напряжённости электрического поля. Каковы их свойства?
7. Сформулируйте принцип суперпозиции электрических полей.
8. Какое электростатическое поле называется однородным?
9. Что происходит с проводником при внесении его в электростатическое поле?
10. Что происходит с диэлектриком при внесении его в электростатическое поле?
11. Как определяется потенциал электростатического поля, в каких единицах измеряется эта величина в СИ?
12. Какова связь между напряжённостью и разностью потенциалов?
13. Чему равна работа по перемещению заряда вдоль эквипотенциальной поверхности?
14. Дайте определение электрической ёмкости конденсатора. В каких единицах измеряется электроёмкость в СИ?
15. От чего зависит электроёмкость плоского конденсатора?
16. Что называется электрическим током?
17. Какие условия необходимы для возникновения электрического тока?
18. Сформулируйте закон Ома для участка цепи, не содержащего источник ЭДС.
19. Что называется электродвижущей силой?
20. Какой вид имеет закон Ома для полной цепи?
21. Сформулируй закон Джоуля – Ленца.
22. Как определяется мощность электрического тока?
23. Какая проводимость полупроводников называется собственной и примесной?
24. Что представляет собой полупроводниковый диод и для чего он предназначен?
25. Что представляет собой транзистор и для чего он предназначен?
26. Каково свойство магнитного поля?
27. Как взаимодействуют прямолинейные провода с токами?
28. Что называется относительной магнитной проницаемостью среды?
29. Что называется магнитной индукцией?
30. Какая сила называется силой Ампера? По какому правилу находят её направление?
31. Дайте определение магнитного потока.
32. Что такое линии магнитной индукции? Каковы их свойства?
33. Изобразите линии магнитной индукции поля, созданного прямолинейным проводником с током, и поля, созданного круговым током.
34. Какая сила называется силой Лоренца? По какому правилу находят её направление?
35. Какое явление называется электромагнитной индукцией?

36. Сформулируйте правило Ленца для определения знака ЭДС индукции.
37. По какому правилу определяется направление индукционного тока в прямолинейном проводнике, движущемся в однородном магнитном поле?
38. Дайте определение самоиндукции.

Раздел 4. Колебания и волны.

1. Какое движение называется колебательным?
2. Что такое период колебаний? Что такое частота колебаний? Какова связь между ними?
3. В каких точках траектории колеблющегося тела скорость равна нулю? Ускорение равно нулю?
4. Какие величины, характеризующие колебательное движение, изменяются периодически?
5. От каких величин зависит период колебаний тела на пружине?
6. Как изменится период колебаний тела на пружине, если уменьшить массу тела в 2 раза?
7. Какие силы действуют при движении математического маятника?
8. Как изменится период колебаний математического маятника, если уменьшить длину подвеса в 4 раза?
9. Какие колебания называются свободными? Собственными? Вынужденными?
10. В чём состоит явление резонанса?
11. Какова роль силы трения при вынужденных колебаниях?
12. Что такое волна? При каком условии возможно распространение волны?
13. Что такое скорость волны?
14. Как связаны между собой скорость, длина волны и период колебаний частиц в волне?
15. Какая волна называется продольной? Поперечной?
16. В каких средах могут возникать и распространяться поперечные волны? Продольные волны?
17. Что может быть источником звука?
18. От чего зависит громкость звука? Высота звука?
19. Что такое ультразвук?
20. Какой ток называется переменным синусоидальным? Как его получают?
21. Каковы основные параметры переменного синусоидального тока?
22. Что такое действующее значение переменного тока? Как оно связано с максимальным значением переменного тока?
23. Что называется активным, индуктивным и ёмкостным сопротивлениями в цепях переменного тока?
24. Что такое электрический резонанс?
25. Как устроен простейший однофазный трансформатор? Для чего служат трансформаторы?
26. Как найти коэффициент трансформации?
27. Расскажите о процессах в колебательном контуре в случаях свободных и вынужденных колебаний.
28. Каковы основные представления максвелловской теории электромагнитных явлений?

Раздел 5. Оптика

1. Какова природа света?
2. Какая существует зависимость между электрическими и магнитными свойствами среды и показателем преломления?
3. Чему равна скорость света в вакууме?
4. Что называется углом падения? Углом отражения? Углом преломления?
5. Сформулируйте законы отражения и преломления света.
6. Что называют предельным углом полного отражения?
7. Что называют интерференцией света?
8. Какие волны называются когерентными?
9. Сформулируйте условие максимумов и минимумов интерференции.
10. Что называется дифракцией света? При каких условиях она наблюдается?
11. Объясните дифракцию на одной щели.
12. Какой свет называют естественным? Поляризованным?
13. Что называют дисперсией света?
14. Что такое спектр?
15. Объясните цвет прозрачных и непрозрачных тел.
16. Какие вещества дают сплошной спектр? Линейчатый? Полосатый?
17. Какое излучение называется ультрафиолетовым? Каковы его свойства?
18. Какое излучение называется инфракрасным? Каковы его свойства?
19. В чём преимущества и недостатки спектрального анализа от химического?
20. Какова природа и свойства рентгеновских лучей?

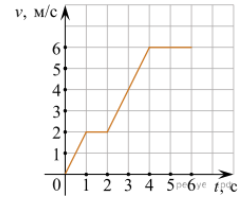
Раздел 6. Элементы квантовой физики.

1. Сформулируй гипотезу Планка.
2. Что такое квант? Чему равна энергия и масса кванта?
3. Что называют явлением внешнего фотоэффекта?
4. Сформулируйте законы Столетова для фотоэффекта.
5. Объясните уравнение Эйнштейна для фотоэффекта.
6. Что такое красная граница фотоэффекта?
7. Какие типы фотоэлементов вам известны?
8. Что такое корпускулярно-волновой дуализм?
9. Расскажите об опытах Резерфорда по рассеянию α -частиц.
10. Сформулируйте постулаты Бора.
11. В чём заключается явление радиоактивности?
12. Какова природа радиоактивного излучения?
13. Какие процессы происходят в ядре при α -распаде и β -распаде?
14. Перечислите свойства ядерных сил.
15. Что следует понимать под энергией связи ядра?
16. Как определяется дефект массы ядра?
17. Что понимают под искусственной радиоактивностью?
18. Какую ядерную реакцию называют цепной?
19. Дайте понятие критической массы.
20. Какое биологическое воздействие оказывают радиоактивные излучения на живой организм?

4.2.2. Вопросы для тестирования

Тест по теме 1.1. «Основы кинематики»

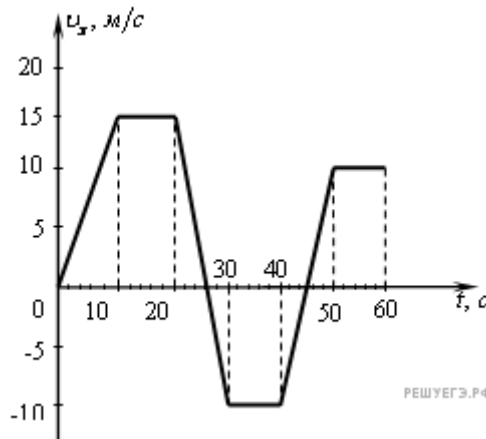
1. На рисунке представлен график зависимости модуля скорости тела от времени. Какой путь пройден телом за вторую секунду? (Ответ дайте в метрах.)



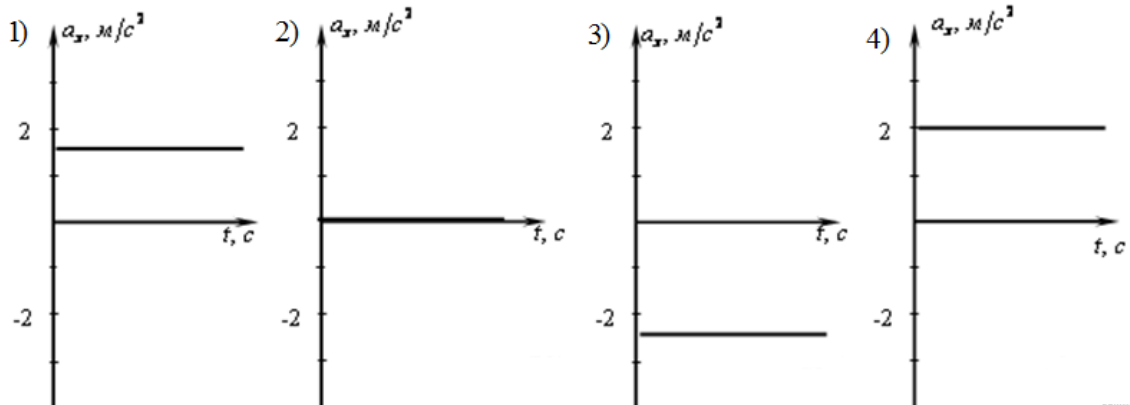
2. В центрифуге стиральной машины белье при отжиме движется по окружности с постоянной по модулю скоростью в горизонтальной плоскости. Как при этом направлен вектор его ускорения?

- 1) по радиусу от центра окружности
- 2) по радиусу к центру окружности
- 3) вертикально вниз
- 4) по направлению вектора скорости

3. На рисунке приведен график зависимости проекции скорости тела от времени.



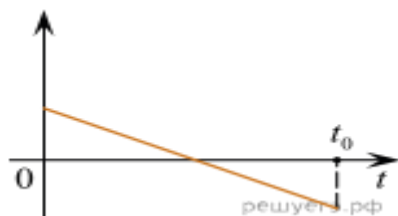
На каком из графиков представлена проекция ускорения тела в интервале времени от 24 до 30 с?



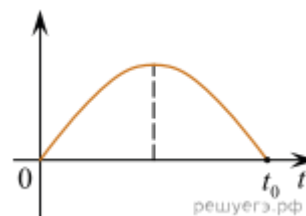
- 1) 1
- 2) 2

- 3) 3
4) 4

4. Шарик брошен вертикально вверх с начальной скоростью \vec{v}_0 (см. рис.). Считая сопротивление воздуха малым, установите соответствие между графиками и физическими величинами, зависимости которых от времени эти графики могут представлять (t_0 — время полета). К каждой позиции первого столбца подберите соответствующую позицию второго и запишите в таблицу выбранные цифры под соответствующими буквами.



А)



Б)

ФИЗИЧЕСКИЕ ВЕЛИЧИНЫ

- 1) Проекция скорости шарика v_y
- 2) Проекция ускорения шарика a_y
- 3) Кинетическая энергия шарика
- 4) Потенциальная энергия шарика

А	Б

5. При прямолинейном движении зависимость координаты тела x от времени t имеет вид:

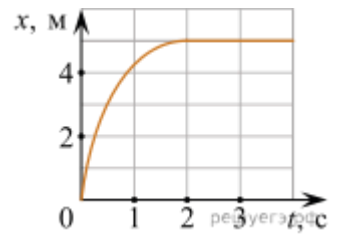
$$x = 5 + 2t + 4t^2.$$

Чему равна скорость тела в момент времени $t = 2$ с при таком движении? (Ответ дайте в метрах в секунду.)

6. Бусинка может свободно скользить по неподвижной горизонтальной спице. На графике изображена зависимость ее координаты от времени. Выберите все верные утверждения, которые можно сделать на основании графика.

- 1) Скорость бусинки на участке 1 постоянна, а на участке 2 равна нулю.
- 2) Проекция ускорения бусинки на участке 1 положительна, а на участке 2 — отрицательна.
- 3) Участок 1 соответствует равномерному движению бусинки, а на участке 2 бусинка неподвижна.
- 4) Участок 1 соответствует равноускоренному движению бусинки, а участок 2 — равномерному.
- 5) Проекция ускорения бусинки на обоих участках равна нулю.

7. Шарик катится по желобу. Изменение координаты шарика с течением времени в инерциальной системе отсчета показано на графике. Выберите все верные утверждения, которые соответствуют результатам опыта.



- 1) Проекция скорости шарика постоянно увеличивалась и оставалась положительной на всем пути.
- 2) Первые 2 с скорость шарика возрастала, а затем оставалась постоянной.
- 3) Первые 2 с шарик двигался с уменьшающейся скоростью, а затем покоился.
- 4) На шарик действовала все увеличивающаяся сила.
- 5) Первые 2 с проекция ускорения шарика не изменялась, а затем стала равной нулю.

8. Спутник Земли перешел с одной круговой орбиты на другую с меньшим радиусом орбиты. Как изменились в результате этого перехода центростремительное ускорение спутника, скорость его движения по орбите и период обращения вокруг Земли?

Для каждой величины определите соответствующий характер изменения:

- 1) увеличилась;
- 2) уменьшилась;
- 3) не изменилась.

Запишите в таблицу выбранные цифры для каждой физической величины. Цифры в ответе могут повторяться.

Центростремительное ускорение	Скорость движения по орбите	Период обращения вокруг Земли

9. Камень бросают с поверхности земли вертикально вверх. Через некоторое время он падает обратно на землю. Как изменяются в течение полета камня следующие физические величины: модуль скорости камня, пройденный камнем путь, модуль перемещения камня?

Для каждой величины определите соответствующий характер изменения:

- 1) сначала увеличивается, затем уменьшается;
- 2) сначала уменьшается, затем увеличивается;
- 3) все время увеличивается.

Запишите в таблицу выбранные цифры для каждой физической величины. Цифры в ответе могут повторяться.

Модуль скорости камня	Пройденный камнем путь	Модуль перемещения камня

10. Материальная точка равномерно движется со скоростью u по окружности радиусом r . Как изменится модуль ее центростремительного ускорения, если скорость точки будет вдвое больше?

- 1) не изменится
- 2) уменьшится в 2 раза
- 3) увеличится в 2 раза
- 4) увеличится в 4 раза

Ответы

1	2	3	4	5	6	7	8	9	10
2	2	3	14	18	135	35	112	231	4

Тест по теме 1.2. «Основы динамики»

1. Под действием силы 8 Н первоначально покоившееся тело массой 4 кг будет двигаться:

- 1) равномерно со скоростью 2 м/с;
- 2) равноускоренно с ускорением 2 м/с²;
- 3) равноускоренно с ускорением 0,5 м/с²;
- 4) равномерно со скоростью 0,5 м/с.

2. Из четырех физических величин — пути, скорости, массы и силы — векторными величинами являются

- 1) путь и скорость
- 2) масса и сила
- 3) скорость и сила
- 4) путь, скорость и сила

3. Из четырех физических величин — пути, скорости, массы и силы — векторными величинами являются

- 1) путь и скорость
- 2) масса и сила
- 3) скорость и сила
- 4) путь, скорость и сила

4. Мяч подбросили вверх (этап 1). Некоторое время мяч летит в воздухе (этап 2) и затем ударяется о землю (этап 3). На каком этапе движения мяч находился в состоянии, близком к невесомости?

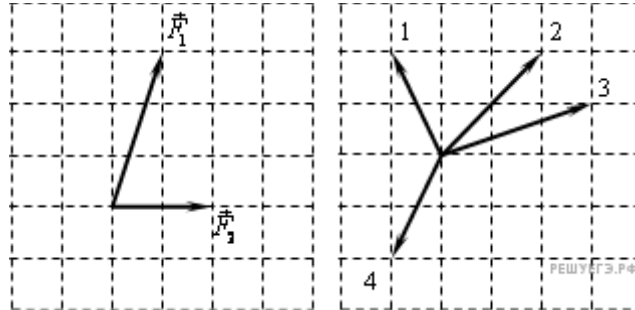
- 1) на 1 этапе
- 2) на 2 этапе
- 3) на 3 этапе
- 4) ни на одном из перечисленных этапов

5. Система отсчета связана с лифтом. Когда эту систему можно считать инерциальной?

- 1) лифт движется замедленно вниз
- 2) лифт движется ускоренно вверх

- 3) лифт движется равномерно вверх
 4) лифт движется ускоренно вниз

6. На тело в инерциальной системе отсчета действуют две силы. Какой из векторов, изображенных на правом рисунке, правильно указывает направление ускорения тела в этой системе отсчета?



- 1) 1
 2) 2
 3) 3
 4) 4

7. Брусок лежит на шероховатой наклонной опоре (см. рис.). На него действуют три силы: сила тяжести $m\vec{g}$, сила нормальной реакции опоры \vec{N} и сила трения $\vec{F}_{\text{тр}}$. Чему равен модуль равнодействующей сил $\vec{F}_{\text{тр}}$ и \vec{N} , если брусок движется равномерно вниз по прямой?

- 1) $F_{\text{тр}} + N$ 2) $N \cos \alpha$ 3) $F_{\text{тр}} \sin \alpha$ 4) mg

8. С вершины наклонной плоскости из состояния покоя скользит с ускорением лёгкая коробочка, в которой находится груз массой m (см. рис.). Как изменятся время движения, ускорение и модуль работы силы трения, если с той же наклонной плоскости будет скользить та же коробочка с грузом массой $2m$?



Для каждой величины (время движения, ускорение, модуль работы силы трения) определите соответствующий характер изменения:

- 1) увеличится
 2) уменьшится
 3) не изменится

Запишите в таблицу выбранные цифры для каждой физической величины. Цифры в ответе могут повторяться.

ФИЗИЧЕСКИЕ ВЕЛИЧИНЫ

- А) Время движения
 Б) Ускорение
 В) Модуль работы силы трения

ИХ ИЗМЕНЕНИЕ

- 1) Увеличится
 2) Уменьшится

3) Не изменится

А	Б	В

9. Школьник скатывается на санках со склона широкого оврага и затем с разгона сразу же начинает заезжать на санках вверх, на противоположный склон оврага. Коэффициент трения полозьев санок о снег всюду одинаков, углы наклона склонов оврага к горизонту всюду одинаковы. Как в результате переезда с одного склона на другой изменяются следующие физические величины: модуль действующей на санки силы трения, модуль ускорения санок, модуль работы силы тяжести при перемещении санок вдоль склона на 1 метр?

Для каждой величины определите соответствующий характер изменения:

- 1) увеличивается;
- 2) уменьшается;
- 3) не изменяется.

Запишите в таблицу выбранные цифры для каждой физической величины. Цифры в ответе могут повторяться.

ФИЗИЧЕСКИЕ ВЕЛИЧИНЫ

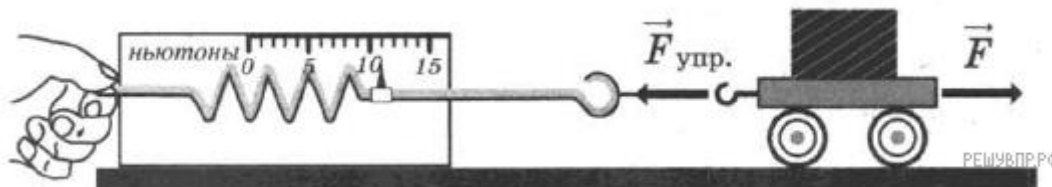
- А) Модуль действующей на санки силы трения
- Б) Модуль ускорения санок
- В) Модуль работы силы тяжести при перемещении вдоль склона на 1 метр

ИХ ИЗМЕНЕНИЕ

- 1) Увеличивается
- 2) Уменьшается
- 3) Не изменяется

А	Б	В

10. С помощью динамометра проводились измерения силы. Шкала прибора проградуирована в ньютонах. Погрешность измерений силы равна цене деления шкалы динамометра. Запишите в ответ показания динамометра с учётом погрешности измерений. В ответе укажите значение с учётом погрешности измерений через точку с запятой. Например, если показания прибора $(5,0 \pm 0,5)$, то в ответе следует записать «5,0;0,1».



Ответы

1	2	3	4	5	6	7	8	9	10
2	3	3	2	3	2	4	331	313	11;1

Тест по теме 1.3. «Законы сохранения в механике»

1. Выберите два верных утверждения о физических явлениях, величинах и закономерностях. Запишите в ответе их номера.

1) Сила Архимеда увеличивается с увеличением плотности тела, погружённого в жидкость.

2) Импульс тела — векторная величина, равная произведению массы тела на его ускорение.

3) В процессе плавления кристаллических тел их температура остаётся неизменной.

4) Разноимённые полюса постоянных магнитов отталкиваются друг от друга.

5) Силой Лоренца называют силу, с которой магнитное поле действует на движущиеся заряженные частицы.

2. Вагон массой m , движущийся со скоростью v , сталкивается с неподвижным вагоном массой $2m$. Каким суммарным импульсом обладают два вагона после столкновения в той же системе отсчета? Действие других тел на вагоны в горизонтальном направлении пренебрежимо мало.

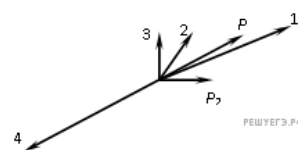
1) 0

2) $\frac{2}{mv}$

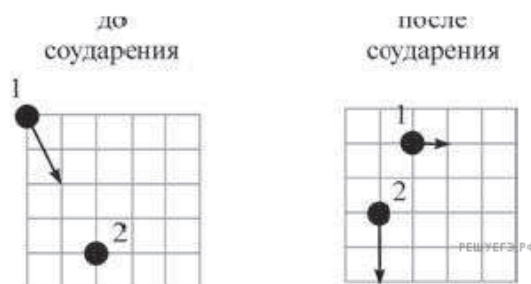
3) $\frac{3}{mv}$

4) mv

3. Снаряд, обладавший импульсом P , разорвался на две части. Векторы импульса P снаряда до разрыва и импульса P_2 одной из этих частей после разрыва представлены на рисунке. Какой из векторов на этом рисунке соответствует вектору импульса второй части снаряда?

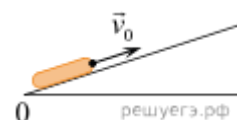


4. Шайба скользит по горизонтальному столу и налетает на другую покоящуюся шайбу. На рисунке стрелками показаны импульсы шайб до и после столкновения. В результате столкновения модуль суммарного импульса шайб



- 1) увеличился
- 2) уменьшился
- 3) не изменился
- 4) стал равным нулю

5. После удара шайба начала скользить вверх по шероховатой наклонной плоскости с начальной скоростью \vec{v}_0 , как показано на рисунке, и после остановки соскользнула обратно. Выберите из



предложенного перечня все утверждения, которые соответствуют результатам проведенных экспериментальных наблюдений, и укажите их номера.

- 1) Время движения шайбы вверх равно времени движения вниз.
- 2) Модуль максимальной скорости шайбы при движении вниз меньше U_0 .
- 3) При движении вверх и вниз работа силы трения шайбы о плоскость одинакова.
- 4) Изменение потенциальной энергии шайбы при движении до верхней точки равно кинетической энергии шайбы сразу после удара
- 5) Модуль ускорения шайбы при движении вверх меньше, чем модуль ускорения при движении вниз.

6. Тележка с песком стоит на рельсах. В неё попадает снаряд, летящий горизонтально вдоль рельсов. Как изменятся при уменьшении скорости снаряда следующие три величины: скорость системы «тележка + снаряд», импульс этой системы, её кинетическая энергия? Для каждой величины определите соответствующий характер изменения:

- 1)увеличится;
- 2)уменьшится;
- 3)не изменится.

Запишите в таблицу выбранные цифры для каждой физической величины. Цифры в ответе могут повторяться.

Скорость системы	Импульс системы	Кинетическая энергия

7. Пластилиновый шар, двигаясь по гладкой горизонтальной плоскости, столкнулся с покоящимся металлическим шаром и прилип к нему. Как в результате изменились следующие физические величины: суммарная кинетическая энергия шаров, внутренняя энергия шаров, величина суммарного импульса шаров? Для каждой величины определите соответствующий характер изменения.

Запишите в таблицу выбранные цифры для каждой физической величины. Цифры в ответе могут повторяться.

ФИЗИЧЕСКИЕ ВЕЛИЧИНЫ

- А) Суммарная кинетическая энергия шаров
- Б) Внутренняя энергия шаров
- В) Величина суммарного импульса шаров

ИХ ИЗМЕНЕНИЕ

- 1) Увеличилась
- 2) Уменьшилась
- 3) Не изменилась

А	Б	В

8. Два пластилиновых шарика массами $2m$ и m находятся на горизонтальном гладком столе. Первый из них движется ко второму со скоростью \vec{v} , а второй покоится относительно стола. Укажите формулы, по которым можно рассчитать модули изменения скоростей шариков в результате их абсолютно неупругого удара.

К каждой позиции первого столбца подберите соответствующую позицию второго и запишите в таблицу выбранные цифры под соответствующими буквами.

ФИЗИЧЕСКИЕ ВЕЛИЧИНЫ


- А) Модуль изменения скорости первого шарика
- Б) Модуль изменения скорости второго шарика

ФОРМУЛЫ

- 1) $|\Delta\vec{v}| = 2v$
- 2) $|\Delta\vec{v}| = \frac{1}{3}v$
- 3) $|\Delta\vec{v}| = 3v$
- 4) $|\Delta\vec{v}| = \frac{2}{3}v$

А	Б

9. Один из первых проектов автомобиля принадлежит И. Ньютону. Котёл с трубкой для отвода пара размещается на тележке над огнём (см. рис.). Вода закипает, пар выбрасывается назад, приводя тележку в движение в противоположном направлении. Какой принцип движения использовался в работе данного автомобиля?



10. Точечное тело массой 2 кг движется вдоль оси Ox . Зависимость проекции импульса p_x этого тела от времени t изображена на рисунке.

Установите соответствие между физическими величинами и их значениями в СИ. К каждой позиции первого столбца подберите соответствующую позицию из второго столбца и запишите в таблицу выбранные цифры под соответствующими буквами.

ФИЗИЧЕСКАЯ ВЕЛИЧИНА

- А) проекция на ось Ox силы, действующей на тело в момент времени $t = 4$ с
- Б) проекция скорости тела на ось Ox в момент времени $t = 4$ с

ЗНАЧЕНИЕ ФИЗИЧЕСКОЙ ВЕЛИЧИНЫ (В СИ)

- 1) 0
- 2) 0,5
- 3) 1
- 4) 2

Запишите в ответ цифры, расположив их в порядке, соответствующем буквам:

А	Б

Ответы

1	2	3	4	5	6	7	8	9	10
35	4	2	3	23	222	213	24	Реактивное движение	13

Тест по теме 2.1. «Основы молекулярно-кинетической теории»

1. В сосуде неизменного объема находилась при комнатной температуре смесь двух идеальных газов, по 1 моль каждого. Половину содержимого сосуда выпустили, а затем добавили в сосуд 1 моль первого газа. Как изменились в результате парциальные давления газов и их суммарное давление, если температура газов в сосуде поддерживалась неизменной? Для каждой величины определите соответствующий характер изменения:

- 1) увеличилось;
- 2) уменьшилось;
- 3) не изменилось.

Запишите в таблицу выбранные цифры для каждой физической величины. Цифры в ответе могут повторяться.

Парциальное давление первого газа	Парциальное давление второго газа	Давление смеси газов в сосуде

2. В таблице указана плотность газов при нормальном атмосферном давлении.

Газ	Плотность газа, кг/м ³
азот	1,25
водород	0,09
ксенон	5,9
хлор	3,2

При этом наименьшую среднеквадратичную скорость имеют молекулы

- 1) азота
- 2) водорода
- 3) ксенона
- 4) хлора

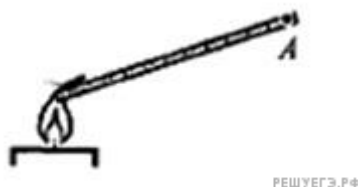
3. В закрытом сосуде с сухими стенками воздух немного нагрели. Как при этом изменились концентрация молекул воды и относительная влажности воздуха в сосуде?

- 1) и концентрация молекул, и относительная влажность уменьшились
- 2) концентрация увеличилась, а относительная влажность не изменилась
- 3) концентрация уменьшилась, а относительная влажность увеличилась
- 4) концентрация не изменилась, а относительная влажность уменьшилась

4. При уменьшении средней кинетической энергии теплового движения молекул в 4 раза их средняя квадратичная скорость

- 1) уменьшится в 4 раза
- 2) увеличится в 4 раза
- 3) уменьшится в 2 раза
- 4) увеличится в 2 раза

5. Металлический стержень нагревают, поместив один его конец в пламя (см. рис.).



Через некоторое время температура металла в точке *A* повышается. Это можно объяснить передачей энергии от места нагревания в точку *A*

- 1) в основном путем теплопроводности
- 2) путем конвекции
- 3) в основном путем излучения и конвекции
- 4) путем теплопроводности, конвекции и лучистого теплообмена примерно в равной мере

6. Четыре металлических бруска положили вплотную друг к другу, как показано на рисунке. Стрелки указывают направление теплопередачи от бруска к бруску. Температуры брусков в данный момент: 100 °С, 80 °С, 60 °С, 40 °С. Температуру 100 °С имеет брусок

- 1) А
- 2) В
- 3) С
- 4) D

7. В калориметр с холодной водой погрузили алюминиевый цилиндр, нагретый до 100 °С. В результате в калориметре установилась температура 30 °С. Если вместо алюминиевого цилиндра опустить в калориметр медный цилиндр такой же массы при температуре 100 °С, то конечная температура в калориметре будет

- 1) выше 30 °С
- 2) ниже 30 °С
- 3) 30 °С
- 4) зависеть от отношения массы воды и цилиндров и в данном случае не поддаётся никакой оценке

8. Какова температура кипения воды при нормальном атмосферном давлении по абсолютной шкале температур?

- 1) 100 К
- 2) 173 К
- 3) 273 К

4) 373 К

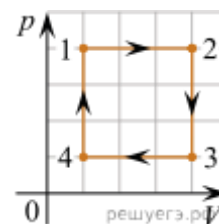
9. В таблице приведены характеристики четырёх жидкостей

Жидкость	Плотность, кг/м ³	Температура замерзания, К
Вода	1000	273
Спирт	800	159
Ртуть	13600	234
Антифриз	1050	253

Самая низкая температура на поверхности земли ($-89,2\text{ }^{\circ}\text{C}$) была зарегистрирована в 1983 года на советской научной станции Восток в Антарктиде. Для измерения такой температуры можно было использовать термометр, наполненный

- 1) водой
- 2) спиртом
- 3) ртутью
- 4) антифризом

10. Один моль идеального одноатомного газа совершает циклический процесс 1-2-3-4-1, график которого показан на рисунке в координатах p - V . Из предложенного перечня выберите все верные утверждения и укажите их номера.



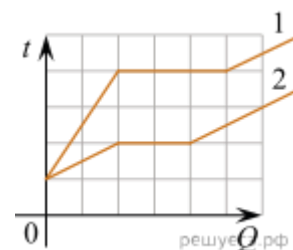
- 1) В процессе 1-2 внутренняя энергия газа увеличивается.
- 2) В процессе 2-3 газ совершает положительную работу.
- 3) В процессе 3-4 газ отдает некоторое количество теплоты.
- 4) В процессе 4-1 температура газа увеличивается в 4 раза.
- 5) Работа, совершённая газом в процессе 1-2, в 3 раза больше работы, совершённой над газом в процессе 3-4.

Ответы

1	2	3	4	5	6	7	8	9	10
123	3	4	3	1	4	2	4	2	134

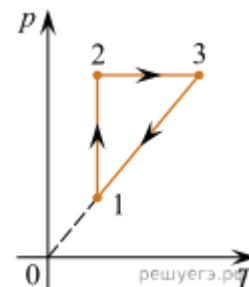
Тест по теме 2.2. «Основы термодинамики»

1. На рисунке представлены графики зависимости температуры t двух тел одинаковой массы от сообщённого количества теплоты Q . Первоначально тела находились в твёрдом агрегатном состоянии. Используя данные графиков, выберите из предложенного перечня все верные утверждения и укажите их номера.



- 1) Температура плавления первого тела в 2 раза больше, чем у второго.
- 2) Тела имеют одинаковую удельную теплоёмкость в твёрдом агрегатном состоянии.
- 3) Удельная теплоёмкость второго тела в твёрдом агрегатном состоянии в 3 раза больше, чем у первого.
- 4) Оба тела имеют одинаковую удельную теплоту плавления.
- 5) Тела имеют одинаковую удельную теплоёмкость в жидком агрегатном состоянии.

2. В результате эксперимента по изучению циклического процесса, проводившегося с некоторым постоянным количеством одноатомного газа, который в условиях опыта можно было считать идеальным, получилась зависимость давления p от температуры T , показанная на графике. Выберите все утверждения, соответствующие результатам этого эксперимента, и запишите в таблицу цифры, под которыми указаны эти утверждения.



- 1) В процессе 1–2 газ совершал положительную работу.
- 2) В процессе 2–3 газ совершал положительную работу.
- 3) В процессе 3–1 газ совершал отрицательную работу.
- 4) Изменение внутренней энергии газа на участке 1–2 было больше изменения внутренней энергии газа на участке 2–3.
- 5) В процессе 3–1 работа не совершалась.

3. В вертикальном цилиндрическом сосуде под подвижным поршнем массой M , способным скользить без трения вдоль стенок сосуда, находится идеальный газ. Газу сообщают некоторое количество теплоты. Как в этом процессе изменяются следующие физические величины: внутренняя энергия газа, средняя кинетическая энергия хаотического движения молекул газа, концентрация молекул?

ФИЗИЧЕСКИЕ ВЕЛИЧИНЫ

- А) Внутренняя энергия газа
- Б) Средняя кинетическая энергия хаотического движения молекул газа
- В) Концентрация молекул

ИХ ИЗМЕНЕНИЕ

- 1) Увеличивается
- 2) Уменьшается
- 3) Не изменяется

Запишите в таблицу выбранные цифры для каждой физической величины. Цифры в ответе могут повторяться.

А	Б	В

5. Объём сосуда с идеальным газом уменьшили вдвое, выпустив половину газа и поддерживая температуру в сосуде постоянной. Как изменились при этом давление газа в сосуде и его внутренняя энергия?

Для каждой величины определите соответствующий характер изменения:

- 1) увеличилась

- 2) уменьшилась
- 3) не изменилась

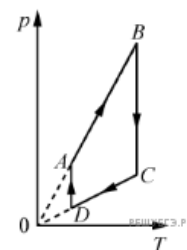
Запишите в ответ выбранные цифры для каждой физической величины. Цифры в ответе могут повторяться.

Давление газа в сосуде	Внутренняя энергия газа в сосуде

6. Возможна ли такая идеальная тепловая машина, которая за цикл получает от нагревателя 50 Дж и совершает полезную работу 100 Дж? Каков КПД такой тепловой машины?

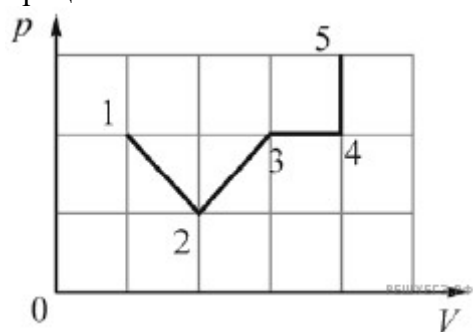
- 1) возможна, 200%
- 2) возможна, - 67%
- 3) возможна, 50%
- 4) невозможна, 200%

6. На рисунке представлен график цикла, проведённого с одноатомным идеальным газом. На каком из участков внутренняя энергия газа уменьшалась? Количество вещества газа постоянно.



- 1) DA
- 2) AB
- 3) CD
- 4) BC

7. На графике показана зависимость давления p идеального газа от его объёма V в процессе 1-2-3-4-5.



Газ совершает минимальную работу на участке

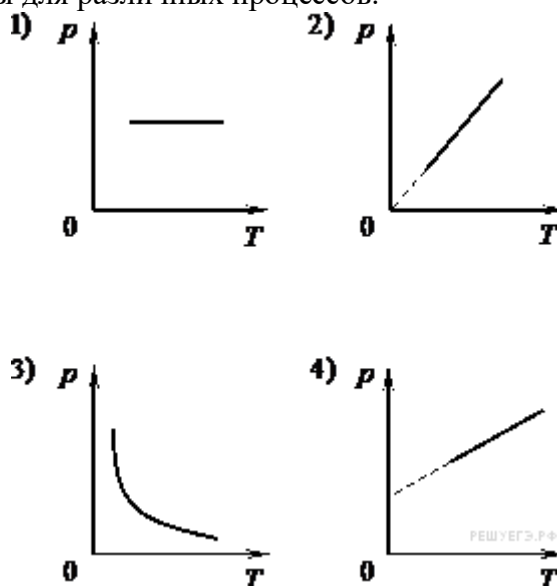
- 1) 1-2
- 2) 2-3
- 3) 3-4
- 4) 4-5

8. В воздушном насосе перекрыли выходное отверстие и быстро сжали воздух в цилиндре насоса. Какой процесс происходит с воздухом в цилиндре насоса?

- 1) изобарный

- 2) изохорный
- 3) изотермический
- 4) адиабатный

9. На рисунке приведены графики зависимости давления 1 моль идеального газа от абсолютной температуры для различных процессов.



Изохорному процессу соответствует график

- 1) 1
- 2) 2
- 3) 3
- 4) 4

10. Порции идеального газа сообщили некоторое количество теплоты. При этом газ совершил положительную работу. В результате внутренняя энергия порции газа

- 1) увеличилась
- 2) уменьшилась
- 3) не изменилась
- 4) могла и увеличиться, и уменьшиться, и остаться неизменной

Ответы

1	2	3	4	5	6	7	8	9	10
135	25	112	32	4	3	4	4	2	4

Тест по теме 2.3. «Агрегатные состояния вещества»

1. С увеличением относительной влажности разность показаний сухого и влажного термометров психрометра...

- 1) уменьшится
- 2) увеличится
- 3) не изменится

2. Один моль влажного воздуха находится в ненасыщенном состоянии при температуре T и давлении p . Температуру газа изобарно увеличили. Как изменились при этом относительная влажность воздуха и точка росы?

Для каждой величины определите соответствующий характер изменения:

- 1) увеличилась
- 2) уменьшилась
- 3) не изменилась

Запишите в таблицу выбранные цифры для каждой физической величины. Цифры в ответе могут повторяться.

Относительная влажность воздуха	Точка росы

3. С помощью какого прибора можно измерить относительную влажность воздуха.




1)



2)



3)



4)

4. Стекланную пластинку подвесили к динамометру. После этого ею прикоснулись к поверхности жидкости и оторвали от нее. Для какой жидкости – ртути, воды или керосина – динамометр покажет в момент отрыва силу больше?

- 1) Для воды.
- 2) Для ртути.
- 3) Для керосина.
- 4) Показания будут одинаковые.

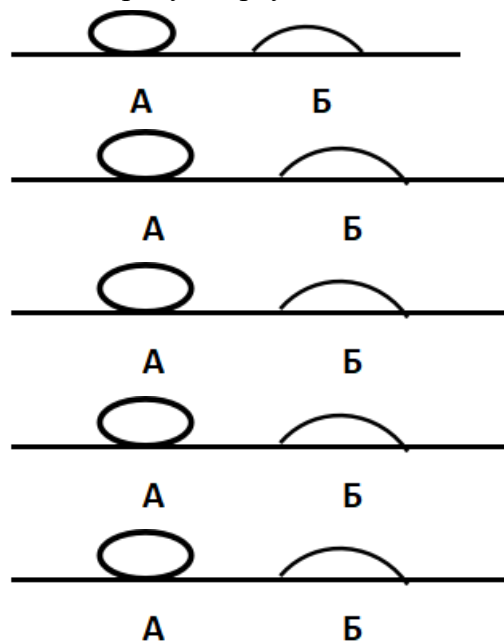
5. В двух капиллярных трубках одинакового радиуса находится вода и спирт (плотность спирта равна 800 кг/м^3 ; плотность воды – 1000 кг/м^3). Одна из этих жидкостей поднялась на 10 мм выше, чем другая. Выберите правильное утверждение.

- 1) Спирт поднялся выше, чем вода.
- 2) Вода поднялась выше, чем спирт.
- 3) Если радиус уменьшить, разность уровней жидкости уменьшится.

4) Среди утверждений нет правильного.

6. На стекле находятся капли воды и ртути. На каком рисунке ртуть?

- 1) А, т.к. ртуть смачивает стекло.
- 2) А, т.к. ртуть не смачивает стекло.
- 3) Б, т.к. ртуть смачивает стекло.
- 4) Б, т.к. ртуть не смачивает стекло.



7. Какое из перечисленных свойств характерно только для кристаллических тел?

- 1) Изотропность.
- 2) Отсутствие определенной температуры плавления.
- 3) Существование определенной температуры плавления.
- 4) Текучесть.

8. Какого вида деформацию испытывает стена здания?

- 1) Деформацию кручения.
- 2) Деформацию сжатия.
- 3) Деформацию сдвига.
- 4) Деформацию растяжения.

9. Какая из приведенных ниже формул выражает закон Гука?

- 1) $E = \sigma |\epsilon|$. 2) $\sigma = E / |\epsilon|$. 3) $\sigma = E |\epsilon|$. 4) $\sigma = |\epsilon| / E$.

10. Выберите все верные утверждения о физических явлениях, величинах и закономерностях. Запишите цифры, под которыми они указаны.

- 1) В герметически закрытом сосуде находятся вода и водяной пар. При нагревании сосуда концентрация молекул водяного пара увеличится.
- 2) Психрометр – прибор для измерения абсолютной влажности.
- 3) Точка росы – температура, при которой водяной пар становится насыщенным.
- 4) Пластическими называются деформации, которые полностью исчезают после прекращения действия внешних сил.
- 5) Все кристаллические тела анизотропны.

ОТВЕТЫ

1	2	3	4	5	6	7	8	9	10
1	23	4	1	1	2	3	2	3	135

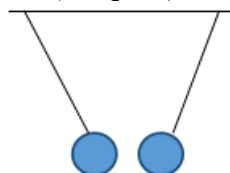
Тест по теме 3.1 «Электрическое поле»

1. Как изменится сила взаимодействия двух точечных электрических зарядов при уменьшении расстояния между ними вдвое?

- 1) Не изменится.
- 2) Увеличится в 4 раза.
- 3) Уменьшится в 4 раза.
- 4) Уменьшится в 2 раза.

2. Что можно сказать о зарядах данных шариков? (см. рис.)

- 1) Оба шарика заряжены положительно.
- 2) Оба шарика заряжены отрицательно.
- 3) Один шарик заряжен положительно, другой – отрицательно.
- 4) Шарики имеют заряды одного знака.



3. В ядре атома свинца 207 частиц. Вокруг ядра обращается 82 электрона. Сколько нейтронов и протонов в ядре этого атома?

- 1) 82 протона, 125 нейтронов.
- 2) 125 протонов, 82 нейтрона.
- 3) 82 протона, 207 нейтронов.
- 4) 207 протонов, 82 нейтрона.

4. Как изменится напряженность электрического поля в некоторой точке от точечного заряда при увеличении заряда в 4 раза?

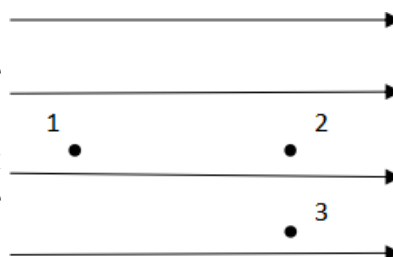
- 1) Увеличится в 16 раз.
- 2) Увеличится в 2 раза.
- 3) Увеличится в 4 раза.
- 4) Не изменится.

5. Электрон перемещается в поле, силовые линии которого показаны на рисунке. Выберите правильное утверждение.

1) При перемещении электрона из точки 2 в точку 3 электрическое поле совершает положительную работу.

2) При перемещении электрона по траектории 1-2-3-1 электрическое поле совершает отрицательную работу.

3) При перемещении электрона из точки 1 в точку 2 электрическое поле совершает отрицательную работу.



- 4) При перемещении электрона из точки 2 в точку 3 электрическое поле совершает отрицательную работу.
6. Какое из приведённых ниже выражений характеризует работу электрического поля по перемещению заряда?
- 1) q/U . 2) $E\Delta d$. 3) qU . 4) $E/\Delta d$.
7. Какая физическая величина определяется отношением потенциальной энергии электрического заряда в электрическом поле к величине этого заряда?
- 1) Потенциал электрического поля.
 2) Напряженность электрического поля.
 3) Электроемкость.
 4) Работа электростатического поля.
8. Воздушный конденсатор опускают в керосин с диэлектрической проницаемостью $\epsilon = 2$. Выберите правильное утверждение.
- 1) Электроемкость конденсатора уменьшится в 4 раза.
 2) Электроемкость конденсатора уменьшится в 2 раза.
 3) Электроемкость конденсатора увеличится в 2 раза.
 4) Электроемкость конденсатора не изменится.
9. Как изменится энергия электрического поля конденсатора, если напряжение между его обкладками уменьшить в 2 раза?
- 1) Уменьшится в 2 раза.
 2) Уменьшится в 4 раза.
 3) Увеличится в 2 раза.
 4) Увеличится в 4 раза.
10. Выберите все верные утверждения о физических явлениях, величинах и закономерностях. Запишите цифры, под которыми они указаны.
- 1) Напряженность – силовая характеристика электрического поля.
 2) Электростатическое поле создают заряды, которые движутся равномерно в данной системе отсчета.
 3) В изолированной системе алгебраическая сумма зарядов всех тел сохраняется.
 4) Тела, через которые электрические заряды могут переходить от заряженного тела к незаряженному вследствие наличия в них свободных носителей зарядов, называются диэлектриками.

ОТВЕТЫ

1	2	3	4	5	6	7	8	9	10
2	3	1	3	3	3	1	3	2	13

Тест по теме 3.2 «Законы постоянного тока»

1. Во сколько раз отличаются сопротивления двух медных проводов, если один из них имеет в 4 раза большую длину и в 2 раза большую площадь поперечного сечения, чем другой?

- 1) В 8 раз. 2) В 4 раза. 3) В 2 раза. 4) В 16 раз.

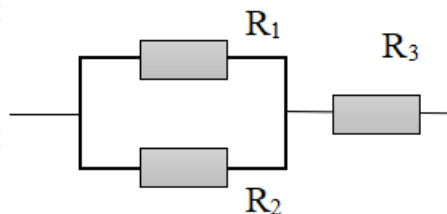
2. На рисунке изображена схема соединения проводников. Выберите правильное утверждение.

1) Резисторы R_1 и R_3 включены последовательно.

2) Резисторы R_1 и R_2 включены параллельно.

3) Резисторы R_2 и R_3 включены последовательно.

4) Резисторы R_1 и R_2 включены последовательно.



3. Какое из приведенных ниже выражений характеризует силу тока в полной цепи?

- 1) U / R . 2) $\rho I / S$. 3) $\mathcal{E} / (R + r)$. 4) $q / \Delta t$.

4. Необходимо измерить силу тока в лампе и напряжение на ней. Как следует включить по отношению к лампе амперметр и вольтметр?

- 1) Амперметр и вольтметр параллельно.
2) Амперметр последовательно, вольтметр параллельно.
3) Амперметр и вольтметр последовательно.
4) Амперметр параллельно, вольтметр последовательно.

5. Физическая величина, характеризующая работу сторонних сил по разделению заряда 1 Кл внутри источника тока, называется...

- 1) ... сила тока.
2) ... электродвижущая сила.
3) ... напряжение.
4) ... сопротивление.

6. Режим короткого замыкания в цепи возникает, когда ...

- 1) ... внешнее сопротивление цепи $R \Rightarrow 0$.
2) ... внешнее сопротивление цепи $R \Rightarrow \infty$.
3) ... внутреннее сопротивление источника тока очень мало.
4) ... внешнее сопротивление цепи равно внутреннему сопротивлению источника.

7. Параллельно или последовательно с электрическим бытовым прибором в квартире включают плавкий предохранитель на электрическом щите?

- 1) Независимо от электрического прибора.
2) Параллельно.
3) Последовательно.
4) Среди ответов нет верного.

8. Электрическая цепь состоит из источника тока, амперметра и лампы. Изменится ли показание амперметра, если в цепь включить параллельно ещё такую же лампу? Выберите правильное утверждение.

- 1) Уменьшится, так как сопротивление цепи возрастет.
- 2) Увеличится, так как сопротивление цепи уменьшится.
- 3) Не изменится.

9. Мощность электрического тока на участке цепи определяется следующим выражением:

- 1) $I \cdot U$.
- 2) $I \cdot R$.
- 3) $I \cdot U \cdot t$.
- 4) U / R .

10. Последовательно соединенные медная и стальная проволоки одинаковой длины и сечения подключены к аккумулятору (удельное сопротивление меди $1,7 \cdot 10^{-8}$ Ом·м; удельное сопротивление стали $12 \cdot 10^{-8}$ Ом·м). В какой из них выделится большее количество теплоты за одинаковое время?

- 1) В медной.
- 2) В стальной.
- 3) Количество теплоты одинаковое.

11. Вопросы с профессиональной направленностью:

11-А. Электрические удары представляют собой...

1. ...четко выраженные местные повреждения тканей организма.
2. ...возбуждение живых тканей организма проходящим через него электрическим током.
3. ...тяжелые ожоги.
4. ...участки обморожения.

11-Б. Когда по проводнику течет электрический ток, то он ...

1. ...охлаждается.
2. ...сжимается.
3. ...поднимется вверх.
4. ...нагревается.

ОТВЕТЫ

1	2	3	4	5	6	7	8	9	10
3	2	3	2	2	1	3	2	1	2

Тест по теме 3.3 «Электрический ток в различных средах»

- 1.** Электрический ток в газах создается движением ...
- 1) ... свободных электронов.

- 2) ... молекул.
- 3) ... электронов, положительных и отрицательных ионов.
- 4) ... дырок.

2. Укажите прибор, в котором можно создать ток только в одном направлении.

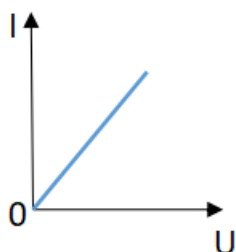
- 1) Конденсатор.
- 2) Резистор.
- 3) Полупроводниковый диод.
- 4) Катушка.

3. Выберите наиболее правильное продолжение фразы: «Термоэлектронная эмиссия – это явление, при котором ...»

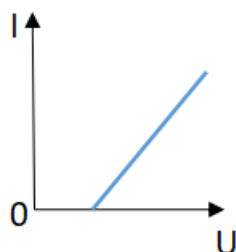
- 1) ... молекулы вылетают с поверхности проводника.
- 2) ... свободные электроны вылетают с поверхности проводника.
- 3) ... проводник заряжается, поглощая заряженные частицы из окружающей среды.
- 4) ... свободные электроны вылетают с поверхности нагретого проводника.

4. Как называется процесс выделения вещества на электродах?

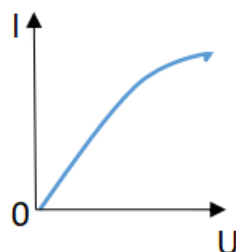
- 1) Электролитическая диссоциация.
- 2) Ионизация.
- 3) Электролиз.
- 4) Электризация.



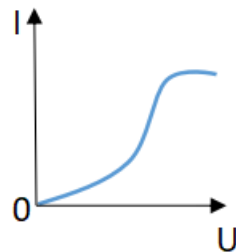
1



2



3



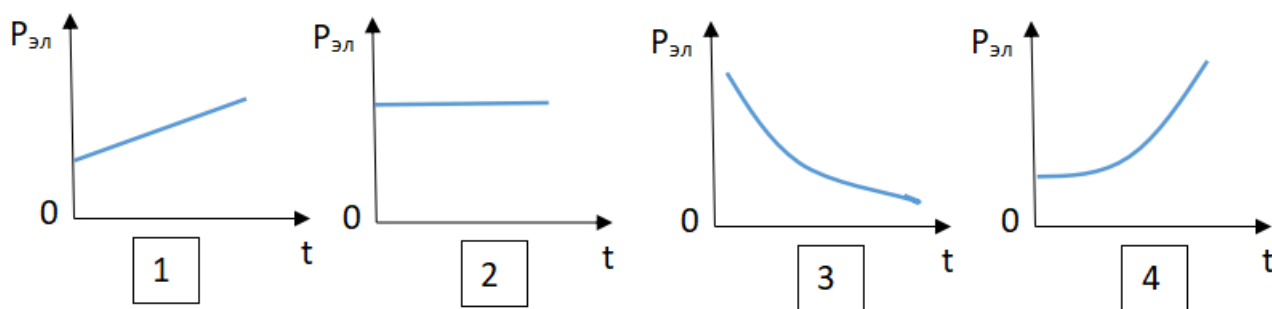
4

5. Какой из графиков соответствует вольтамперной характеристике электролитов?

6. В четырёхвалентный кремний добавили в первом опыте пятивалентный химический элемент, а во втором – трёхвалентный элемент. Каким типом проводимости в основном будет обладать полупроводник в каждом случае?

- 1) В первом – дырочной, во втором – электронной.
- 2) В первом – электронной, во втором – дырочной.
- 3) В обоих случаях электронной.
- 4) В обоих случаях дырочной.

7. Какой из графиков соответствует зависимости удельного сопротивления полупроводников от температуры?



- 8.** Какие частицы являются носителями заряда в металлах?
- 1) Свободные электроны.
 - 2) Электроны и ионы.
 - 3) Ионы.
 - 4) Свободные электроны и дырки.
- 9.** Как называется процесс создания носителей заряда в жидкостях?
- 1) Электролитическая диссоциация.
 - 2) Ионизация.
 - 3) Электролиз.
 - 4) Электризация.
- 10.** В донорных полупроводниках электропроводность...
- 1) ... собственная.
 - 2) ... примесная электронная.
 - 3) ... примесная дырочная.
 - 4) ... эти материалы плохо проводят электрический ток.

11. Вопрос с профессиональной направленностью:

11-А. Действие электрического тока на организм:

- | | |
|--|--|
| <ol style="list-style-type: none"> 1. Термическое 2. Электролитическое. 3. Биологическое. | <ol style="list-style-type: none"> 1. проявляется раздражением и возбуждением живых тканей организма 2. проявляется в разложении крови и других органических жидкостей 3. проявляется в ожогах отдельных участков тела. 4. проявляется в обморожении отдельных участков тела |
|--|--|

11-Б. Человек может выдержать смертельно опасное значение переменного тока 100 мА, если продолжительность воздействия тока не превысит...

1. ...5с.
2. ...0,5 с.
3. ...1 минуту.
4. ...0,2 с.

ОТВЕТЫ

1	2	3	4	5	6	7	8	9	10
3	3	4	3	2	2	3	1	1	2

Тест по теме 3.5 «Магнитное поле. Электромагнитная индукция»

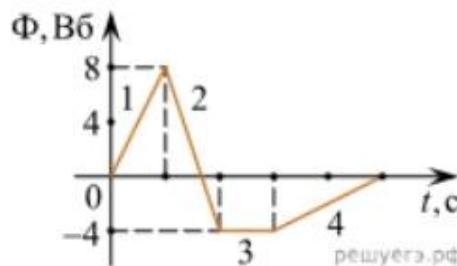
1. Какое из приведенных ниже выражений характеризует понятие электромагнитной индукции?
 - 1) Явление, характеризующее действие магнитного поля на движущийся заряд.
 - 2) Явление возникновения в замкнутом контуре электрического тока при изменении магнитного поля.
 - 3) Явление возникновения ЭДС в проводнике под действием магнитного поля.

2. С помощью какого правила определяют направление индукционного тока?
 - 1) Правило правой руки.
 - 2) Правило буравчика.
 - 3) Правило левой руки.
 - 4) Правило Ленца.

3. Укажите все правильные утверждения, которые отражают сущность явления электромагнитной индукции: «В замкнутом контуре электрический ток появляется...»
 - 1) ... если магнитный поток не меняется.
 - 2) ... если магнитный поток не равен нулю.
 - 3) ... при увеличении магнитного потока.
 - 4) ... при уменьшении магнитного потока.

4. Что определяется скоростью изменения магнитного потока через контур?
 - 1) Индуктивность контура.
 - 2) ЭДС индукции.
 - 3) Магнитная индукция.
 - 4) Индукционный ток.

5. На рисунке показан график зависимости магнитного потока, пронизывающего контур, от времени. На каком из участков графика в контуре не возникает ЭДС индукции?
 - 1) 1.
 - 2) 2.
 - 3) 3.
 - 4) 4.



- 2) Индуктивность катушки увеличилась в $\sqrt{2}$ раз.
 3) Индуктивность катушки уменьшилась в 2 раза.
 4) Индуктивность катушки не изменилась.
7. Как уменьшить индуктивность катушки с железным сердечником при условии, что габариты обмотки (её длина и поперечное сечение) останутся неизменными?
 1) Уменьшить число витков.
 2) Уменьшить силу тока в катушке.
 3) Вынуть железный сердечник.
 4) Увеличить толщину обмотки.
8. Сила тока в контуре увеличилась в два раза. Укажите все правильные утверждения.
 1) Энергия магнитного поля контура увеличилась в два раза.
 2) Энергия магнитного поля контура увеличилась в четыре раза.
 3) Энергия магнитного поля контура уменьшилась в два раза.
 4) Энергия магнитного поля контура не изменилась.
9. Какое математическое выражение служит для определения ЭДС индукции в замкнутом контуре?
 1) $-\Delta\Phi / \Delta t$. 2) $IB\Delta l \sin\alpha$. 3) $BScos\alpha$. 4) $BSsina$.
10. Как нужно изменить индуктивность контура, для того чтобы при неизменном значении силы тока в нём энергия магнитного поля уменьшилась в 4 раза.
 1) Уменьшить в два раза.
 2) Уменьшить в четыре раза.
 3) Увеличить в два раза.
 4) Увеличить в четыре раза.

ОТВЕТЫ

1	2	3	4	5	6	7	8	9	10
2	4	34	2	3	4	3	2	1	2

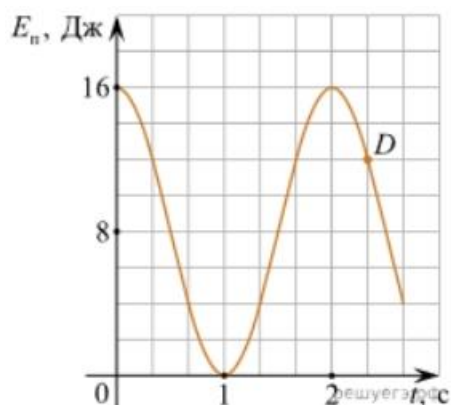
Тест по теме 4.1 «Механические колебания и волны»

1. Какие из перечисленных ниже колебаний являются вынужденными? Укажите все правильные ответы.
 1) Колебания качелей, раскачиваемых человеком, стоящим на земле.
 2) Колебания груза на нити, один раз отведенного от положения равновесия и отпущенного.
 3) Колебания диффузора громкоговорителя во время работы приемника.
 4) Колебания чашек рычажных весов.
2. Подвешенный на нити груз совершает малые колебания. Считая колебания незатухающими, укажите все правильные утверждения.
 1) Чем длиннее нить, тем больше частота колебаний.
 2) При прохождении грузом положения равновесия скорость груза максимальна.

- 3) Груз совершает периодическое движение.
- 4) Период колебаний зависит от амплитуды.

3. На рисунке представлен график зависимости потенциальной энергии математического маятника (относительно положения его равновесия) от времени. Какова полная механическая энергия маятника в момент времени, соответствующий на графике точке D ?

- 1) 4 Дж.
- 2) 16 Дж.
- 3) 12 Дж.
- 4) 8 Дж.



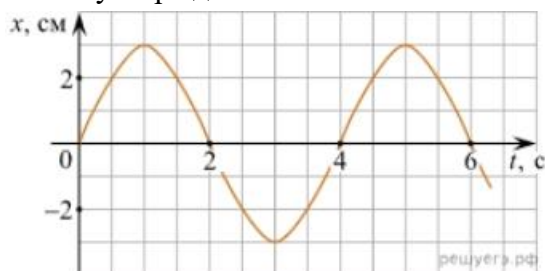
4. Какое из приведенных ниже выражений определяет период колебаний груза массой m , подвешенного на пружине жесткостью k ?

- 1) $2\pi\sqrt{\frac{l}{g}}$
- 2) $2\pi\sqrt{\frac{m}{k}}$
- 3) $\frac{1}{2\pi}\sqrt{\frac{g}{l}}$
- 4) $\frac{1}{2\pi}\sqrt{\frac{k}{m}}$

5. Как изменится период колебаний математического маятника, если длину нити уменьшить в 4 раза?

- 1) Уменьшится в 4 раза.
- 2) Уменьшится в 2 раза.
- 3) Увеличится в 4 раза.
- 4) Увеличится в 2 раза.

6. На рисунке приведен график гармонических колебаний. Укажите все правильные утверждения.



- 1) Амплитуда колебаний равна 2 см.
- 2) Период колебаний 2 с.
- 3) Частота колебаний 0,5 Гц.
- 4) Среди утверждений нет правильного

7. Каковы свойства продольных волн? Укажите все правильные ответы.

- 1) Эти волны могут распространяться только в газах.
- 2) Продольные волны представляют собой чередующиеся разрежения и сжатия.
- 3) Частицы среды при колебаниях смещаются вдоль направления распространения волны.
- 4) Частицы среды при колебаниях смещаются перпендикулярно направлению распространения волны.

8. В каких направлениях совершаются колебания в поперечной волне?
- 1) Во всех направлениях.
 - 2) Только по направлению распространения волны.
 - 3) Только перпендикулярно распространению волны.
 - 4) Среди ответов нет правильного.
9. Установите соответствие между примерами и физическими явлениями, которые эти примеры иллюстрируют. Для каждого примера проявления физических явлений из первого столбца подберите соответствующее название физического явления из второго столбца.

ПРИМЕРЫ

ФИЗИЧЕСКИЕ ЯВЛЕНИЯ

- | | |
|---|--|
| <p>А) эхо в лесу</p> <p>Б) определение глубины водоёма с помощью навигационного прибора эхолота</p> | <p>1) Огибание звуком препятствия</p> <p>2) Явление полного внутреннего отражения</p> <p>3) Отражение света</p> <p>4) Отражение звука от препятствия</p> |
|---|--|

Запишите в таблицу выбранные цифры под соответствующими буквами.

А	Б

10. Какие из перечисленных ниже волн являются поперечными? Укажите все правильные ответы.
- 1) Волны на поверхности воды.
 - 2) Звуковые волны в газах.
 - 3) Радиоволны.

ОТВЕТЫ

1	2	3	4	5	6	7	8	9	10
1	23	2	2	2	4	23	3	44	13

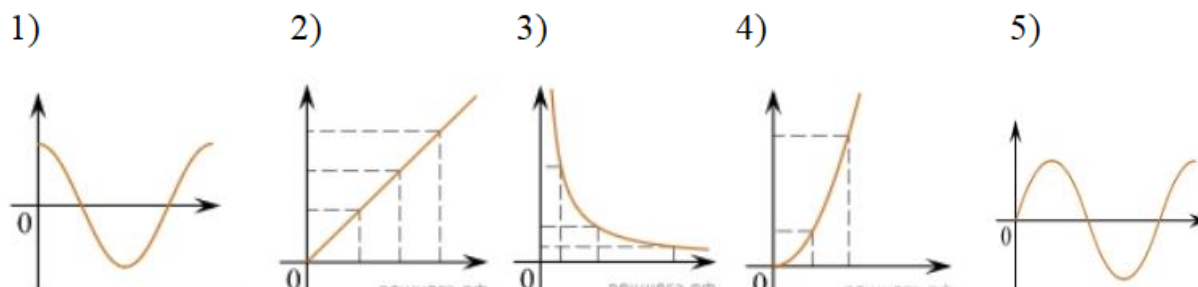
Тест по теме 4.2 «Электромагнитные колебания и волны»

1. Как изменится частота электромагнитных колебаний в контуре $L - C$, если емкость конденсатора увеличить в четыре раза?
- 1) Увеличится в 4 раза.
 - 2) Увеличится в 2 раза.
 - 3) Уменьшится в 4 раза.
 - 4) Уменьшится в 2 раза.
2. Значение силы переменного тока, измеренное в амперах, задано уравнением $i = 0,1 \sin 100\pi t$. Укажите все правильные утверждения.
- 1) Амплитуда силы тока 0,1 А.
 - 2) Период равен 100 с.
 - 3) Частота равна 50 Гц.
 - 4) Циклическая частота 100 рад/с.

3. Даны следующие зависимости величин:

- А) Зависимость напряжения на конденсаторе от времени в колебательном контуре, учитывая, что в начальный момент времени конденсатор заряжен.
 Б) Зависимость энергии магнитного поля катушки с током от силы тока в ней.
 В) Зависимость длины излучаемой электромагнитной волны от частоты колебаний заряда в металлическом проводнике.

Установите соответствие между этими зависимостями и видами графиков, обозначенных цифрами 1–5. Для каждой зависимости А–В подберите соответствующий вид графика и запишите в таблицу выбранные цифры под соответствующими буквами.



А	Б	В

Ответ:

4. Каким образом осуществляется передача электрической энергии из первичной обмотки трансформатора во вторичную обмотку? Укажите все правильные ответы.

- 1) Через провода, соединяющие обмотки трансформатора.
- 2) С помощью переменного магнитного поля, пронизывающего обе катушки.
- 3) С помощью электромагнитных волн.
- 4) Правильных ответов нет.

5. Какое из приведенных ниже выражений определяет понятие электромагнитное поле?

- 1) Процесс распространения колебаний заряженных частиц.
- 2) Особая форма материи, осуществляющая взаимодействие между заряженными частицами.
- 3) Особая форма материи, осуществляющая взаимодействие между любыми частицами.

6. В первичной обмотке трансформатора 100 витков, во вторичной обмотке – 20. Выберите все правильные утверждения.

- 1) Трансформатор является понижающим.
- 2) Трансформатор является повышающим.
- 3) Коэффициент трансформации равен 0,2.
- 4) Коэффициент трансформации равен 5.

7. Продолжите фразу: «Электромагнитная волна – это ...». Выберите все правильные утверждения.

- 1) ... процесс распространения колебаний электрической напряженности и магнитной индукции.
- 2) ... кратчайшее расстояние между двумя точками, колеблющимися в одинаковых фазах.
- 3) ... процесс распространения колебаний заряженных частиц.
- 4) ... процесс распространения электромагнитного поля от источника колебаний в пространстве.

8. Как ориентированы векторы магнитной индукции \vec{B} , электрической напряженности \vec{E} и скорости \vec{c} по отношению друг к другу в электромагнитной волне?

- 1) $\vec{B} \perp \vec{E} \parallel \vec{c}$. 2) $\vec{B} \perp \vec{c}; \vec{E} \parallel \vec{c}$. 3) $\vec{B} \perp \vec{E} \perp \vec{c}$. 4) $\vec{B} \parallel \vec{E} \parallel \vec{c}$.

9. Какое устройство в приёмнике Попова регистрирует приём электромагнитных волн?

- 1) Электромагнитное реле.
- 2) Когерер.
- 3) Антенна.
- 4) Электрический звонок.

10. Продолжите фразу: «Процесс наложения колебаний одной частоты на колебания другой частоты называется...».

- 1) ... радиосвязь.
- 2) ... детектирование.
- 3) ... модуляция.
- 4) ... радиолокация.

11. Вопрос с профессиональной направленностью:

11-А. Если подключить трансформатор к источнику постоянного напряжения, то он может выйти из строя. Объясните, вследствие чего это происходит?

ОТВЕТЫ

1	2	3	4	5	6	7	8	9	10
4	13	А – 1 Б – 4 В – 3	2	2	14	134	3	2	3

Тест по теме 5.1 «Природа света»

1. При переходе света из вакуума в прозрачную среду с абсолютным показателем преломления $n = 2$ скорость распространения...

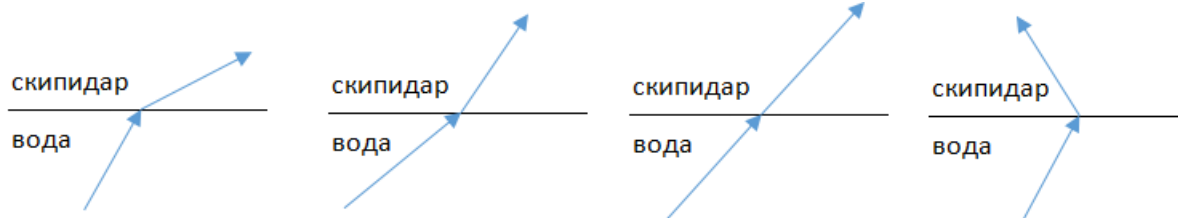
- 1) ... увеличивается в 2 раза.
- 2) ... остается неизменной.

3) ... уменьшается в 2 раза.

2. Для нахождения предельного угла при падении луча на границу «стекло-вода» нужно использовать формулу. Выберите все правильные ответы.

1) $\sin \alpha_0 = n_c / n_v$. 2) $\sin \alpha_0 = n_c \cdot n_v$. 3) $\sin \alpha_0 = n_v / n_c$.

3. Луч переходит из воды в скипидар. На каком из рисунков правильно изображен ход луча? Показатель преломления воды 1,33, скипидара – 1,6.



1)

2)

3)

4)

4. Угол падения луча равен 50° . Угол отражения луча равен.

1) 90° . 2) 40° . 3) 50° . 4) 100° .

5. Предмет находится между фокусом F и двойным фокусом 2F рассеивающей линзы. Изображение предмета ...

- 1) ... мнимое, прямое, увеличенное.
- 2) ... действительное, перевернутое, увеличенное.
- 3) ... мнимое, прямое, уменьшенное.
- 4) ... действительное, перевернутое, уменьшенное.

6. Световой пучок выходит из стекла в воздух. Что происходит при этом с частотой электромагнитных колебаний в световой волне и скоростью их распространения?

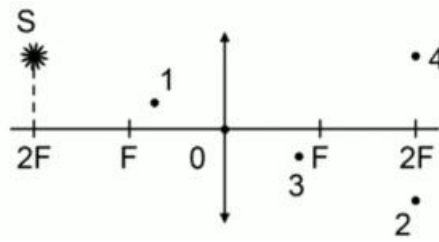
- 1) Частота и скорость увеличиваются.
- 2) Частота – увеличивается, скорость – уменьшается.
- 3) Частота и скорость не изменяются.
- 4) Частота – не изменяется, скорость – увеличивается.

7. Физическая величина, равная отношению светового потока, падающего на поверхность, к площади этой поверхности, называется ...

- 1) ... силой света.
- 2) ... яркостью.
- 3) ... освещенностью.
- 4) ... телесным углом.

8. Укажите точку, в которой находится изображение светящейся точки S (см. рисунок), создаваемое тонкой собирающей линзой.

- 1) 1.
- 2) 2.
- 3) 3.
- 4) 4.



9. Установите соответствие между оптическим прибором (устройством) и типом изображения, полученным с его помощью.

Оптические приборы		Тип изображения
А) Мультимедиа проектор		1) Уменьшенное, мнимое. 2) Увеличенное, действительное. 3) Уменьшенное, действительное. 4) Увеличенное, мнимое.
Б) Дверной глазок		
А	Б	

О т в е т:

10. Выберите все верные утверждения о физических явлениях, величинах и закономерностях. Запишите цифры, под которыми они указаны.

- 1) В однородной прозрачной среде свет распространяется прямолинейно.
- 2) При преломлении электромагнитных волн на границе двух сред скорость волны не изменяется.
- 3) Явление полного внутреннего отражения может наблюдаться только при углах падения больше предельного.
- 4) Собирающая линза может давать как мнимые, так и действительные изображения.

ОТВЕТЫ

1	2	3	4	5	6	7	8	9	10
3	3	2	3	3	4	3	2	21	134

Тест по теме 5.2 «Волновые свойства света»

1. Как изменится длина волны красного излучения при переходе света из воздуха в воду?
 - 1) Уменьшается.
 - 2) Увеличивается.
 - 3) Не изменяется.

2. Какое из приведенных ниже выражений определяет понятие интерференции?
 - 1) Наложение когерентных волн.
 - 2) Разложение света в спектр при преломлении.
 - 3) Огибание волной препятствий.

3. Какое из наблюдаемых явлений объясняется дифракцией света?

- 1) Излучение света лампой накаливания.
 - 2) Радужная окраска компакт-дисков.
 - 3) Радужная окраска тонких мыльных пленок.
 - 4) Радуга.
- 4.** Свет какого цвета меньше других отклоняется призмой спектроскопа?
- 1) Фиолетового.
 - 2) Синего.
 - 3) Зеленого.
 - 4) Красного.
- 5.** Какие из приведенных ниже выражений являются условием наблюдения главных максимумов в спектре дифракционной решетки с периодом d под углом φ ?
- 1) $d \sin \varphi = k \lambda$.
 - 2) $d \cos \varphi = k \lambda$.
 - 3) $d \sin \varphi = (2k + 1) \lambda/2$.
 - 4) $d \cos \varphi = (2k + 1) \lambda/2$.
- 6.** Какое явление доказывает поперечность световых волн?
- 1) Дисперсия.
 - 2) Отражение.
 - 3) Преломление.
 - 4) Поляризация.
- 7.** Какое из перечисленных ниже электромагнитных излучений имеет наименьшую длину волны?
- 1) Излучение видимого спектра.
 - 2) Радиоволны.
 - 3) Рентгеновское излучение.
 - 4) Ультрафиолетовое излучение.
- 8.** Укажите все правильные ответы. Две световые волны являются когерентными, если ...
- 1) ... волны имеют одинаковую частоту ($\nu_1 = \nu_2$).
 - 2) ... волны имеют постоянную разность фаз колебаний ($\Delta\varphi = \text{const}$).
 - 3) ... волны имеют одинаковую частоту ($\nu_1 = \nu_2$) и постоянную разность фаз колебаний ($\Delta\varphi = \text{const}$).
 - 4) ... волны имеют разную частоту ($\nu_1 \neq \nu_2$) и постоянную разность фаз колебаний ($\Delta\varphi = \text{const}$).
- 9.** Какие из излучений используются для исследования структуры и внутренних дефектов твердых тел и конструкций?
- | | |
|--------------------------------|-------------|
| А. Ультрафиолетовое излучение. | 1) А. |
| Б. Гамма-излучение. | 2) А и Б. |
| В. Видимое излучение. | 3) А, В, Д. |

Г. Радиоволны.
 Д. Рентгеновское излучение.

4) Б и Д.

10. На рисунке приведены спектр поглощения разреженных атомарных паров неизвестного газа (в середине) и спектры поглощения паров водорода и гелия. В состав неизвестного газа входит(-ят) ...



- 1) Водород.
- 2) Гелий.
- 3) Водород и гелий.
- 4) Ни водород, ни гелий.

11. Два автомобиля движутся в одном и том же направлении со скоростями v_1 и v_2 относительно поверхности Земли. Скорость света от фар первого автомобиля в системе отсчета, связанной с другим автомобилем, равна:

- 1) $c + (v_1 + v_2)$.
- 2) c .
- 3) $c + (v_1 - v_2)$.

ОТВЕТЫ

1	2	3	4	5	6	7	8	9	10	11
1	1	2	4	1	4	3	3	4	1	2

Тест по теме 6 «Квантовая физика. Физика атома и атомного ядра»

1. Какие из приведенных ниже утверждений соответствуют смыслу постулатов Бора? Укажите все правильные ответы.

- 1) В атоме электроны движутся по круговым орбитам и излучают при этом электромагнитные волны.
- 2) Атом может находиться только в одном из стационарных состояний, в стационарных состояниях атом энергию не излучает.
- 3) Атом состоит из ядра и электронов. Заряд и почти вся масса атома сосредоточены в ядре.
- 4) При переходе из одного стационарного состояния в другое атом поглощает или излучает квант электромагнитного излучения.

2. Какое явление используется в оптических квантовых генераторах?

А. Спонтанное излучение.

Б. Индуцированное излучение.

- 1) А.
- 2) Б.
- 3) А и Б.
- 4) Ни А, ни Б.

3. Сравните силы ядерного притяжения между двумя протонами F_{pp} , двумя нейтронами F_{nn} , а также между протоном и нейтроном F_{pn} .

- 1) $F_{nn} > F_{pn} > F_{pp}$. 3) $F_{nn} \approx F_{pn} \approx F_{pp}$.
 2) $F_{nn} \approx F_{pn} > F_{pp}$. 4) $F_{nn} < F_{pn} < F_{pp}$.

4. Что означают цифры у ядра атома азота $^{14}_7\text{N}$?

- 1) 7 – число электронов, 14 – число протонов.
 2) 7 – число нейтронов, 14 – число протонов.
 3) 7 – число протонов, 14 – число протонов и нейтронов.
 4) 7 – число электронов, 14 – число нейтронов.

5. Что представляет собой β -излучение?

- 1) Поток быстрых электронов.
 2) Поток нейтронов.
 3) Поток квантов электромагнитного излучения.
 4) Поток ядер гелия.

6. Элемент ^A_ZX испытал α -распад. Какой заряд и массовое число будет у нового элемента Y?

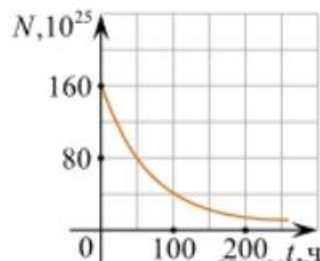
- 1) $^{A-4}_{Z+1}\text{Y}$. 2) $^{A-4}_{Z-2}\text{Y}$. 3) $^{A-2}_{Z-4}\text{Y}$. 4) $^{A-1}_{Z-1}\text{Y}$.

7. Каково соотношение между массой радиоактивного ядра $M_{\text{я}}$ и суммой масс свободных протонов $Z \cdot m_p$ и свободных нейтронов $N \cdot m_n$, из которых составлено это ядро. Укажите правильный ответ.

- 1) $M_{\text{я}} = (Z \cdot m_p + N \cdot m_n)$.
 2) $M_{\text{я}} < (Z \cdot m_p + N \cdot m_n)$.
 3) $M_{\text{я}} > (Z \cdot m_p + N \cdot m_n)$.

8. Дан график зависимости числа не распавшихся ядер эрбия от времени. Каков период полураспада этого изотопа эрбия?

- 1) 50 ч.
 2) 100 ч.
 3) 150 ч.
 4) 200 ч.



9. Какое из приведенных ниже выражений определяет понятие цепная ядерная реакция? Укажите правильный ответ.

- 1) Процесс самопроизвольного распада ядер атомов некоторых химических элементов.
 2) Процесс превращения атомных ядер, происходящий в результате их взаимодействия с элементарными частицами или друг с другом.
 3) Процесс деления атомных ядер некоторых химических элементов, происходящий под действием нейтронов, образующихся в процессе самой ядерной реакции.

10. Какие вещества из перечисленных ниже могут быть использованы в ядерных реакторах в качестве замедлителей нейтронов?

- А. Графит. Б. Кадмий. В. Тяжелая вода. Г. Бор.
 1) А и В. 3) А и Б.
 2) Б и Г. 4) В и Г.

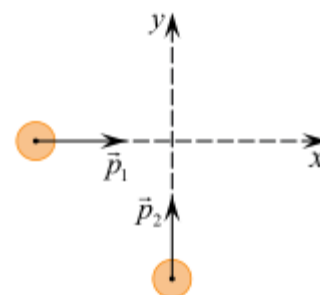
ОТВЕТЫ

1	2	3	4	5	6	7	8	9	10
24	2	3	3	1	2	2	1	3	1

4.3 Материалы оценочных средств для рубежного контроля

Контрольная работа № 1 по разделу «Механика»

Задача № 1. По гладкой горизонтальной плоскости по осям x и y движутся две шайбы с импульсами, равными по модулю $p_1 = 2 \text{ кг} \cdot \text{м/с}$ и $p_2 = 3,5 \text{ кг} \cdot \text{м/с}$, как показано на рисунке. После соударения вторая шайба продолжает двигаться по оси y в прежнем направлении с импульсом, равным по модулю $p_3 = 2 \text{ кг} \cdot \text{м/с}$. Найдите модуль импульса первой шайбы после удара. Ответ укажите в $\text{кг} \cdot \text{м/с}$ с точностью до одного знака после запятой.



Задача № 2. Горизонтально расположенная невесомая пружина с жёсткостью $k = 1000 \text{ Н/м}$ находится в недеформированном состоянии. Один её конец закреплён, а другой касается бруска массой $M = 0,1 \text{ кг}$, находящегося на горизонтальной поверхности. Брусок сдвигают, сжимая пружину, и отпускают. На какую длину Δx была сжата пружина, если после отпускания бруска его скорость достигла величины $v = 1 \text{ м/с}$? Трение не учитывать. *Ответ укажите в метрах с точностью до сотых.*

Задача № 3. Определите длину горки, если девочка съезжает на санках равноускорено, скорость санок в конце спуска 15 м/с . Ускорение равно $1,6 \text{ м/с}^2$, начальная скорость равна нулю. (Ответ дайте в метрах.)

Контрольная работа № 2 по разделу «Молекулярная физика и термодинамика»

Задача № 1. Определите среднюю квадратичную скорость молекул одноатомного идеального газа, находящегося под давлением $5 \cdot 10^5$ Па, если концентрация молекул 10^{25} м^{-3} , а масса каждой молекулы $3 \cdot 10^{-26}$ кг.

Задача № 2. Определите массу азота в сосуде, емкостью $4 \cdot 10^{-3} \text{ м}^3$, наполненного под давлением $2 \cdot 10^5$ Па при температуре 30°C .

Задача № 3. За цикл тепловая машина получает от нагревателя количество теплоты 300 Дж и отдает холодильнику 250 Дж. Чему равен КПД тепловой машины?

Задача № 4. В сырых и особо сырых помещениях (относительная влажность воздуха более 75%) при монтаже электропроводки должны применяться провода, кабели и конструкции их крепления повышенной влагостойкости. Определите, относится ли данное помещение к помещениям с повышенной опасностью, если при температуре 28°C плотность водяного пара равна $21,76 \text{ г/м}^3$, а плотность насыщенного пара при этой же температуре $27,2 \text{ г/м}^3$.

Контрольная работа № 3

«Электрическое поле. Законы постоянного тока»

Задача №1. В керосине расположен заряд в $1,5 \cdot 10^{-9}$ Кл и на расстоянии 0,006 м притягивает к себе второй заряд с силой $2 \cdot 10^{-3}$ Н. Найдите величину второго заряда.

Задача №2. Какое сечение должен иметь медный провод, если при силе протекающего по нему тока 160 А потеря напряжения составляет 8 В. Длина провода, подводящего ток к потребителю, равна 70 м.

Задача №3. Определите напряжение на зажимах батареи, если два элемента соединены параллельно. Первый элемент имеет ЭДС 2 В и внутреннее сопротивление 0,6 Ом. Второй имеет ЭДС 1,5 В и внутреннее сопротивление 0,4 Ом.

Задачи с профессиональной направленностью

2. При монтаже осветительной электропроводки в зданиях достаточно проводов сечением 1 мм^2 . Каково сопротивление пяти метров медной электропроводки? Удельное сопротивление меди $0,0175 \text{ Ом} \cdot \text{мм}^2/\text{м}$

3. ЭДС аккумулятора шуруповёрта 21В. Аккумулятор замкнут на сопротивление $11,7 \text{ Ом}$. Определить внутреннее сопротивление аккумулятора, если сила тока в цепи равна 1,5А.

Контрольная работа № 4

«Электрическое поле. Законы постоянного тока»

Задача №1. В керосине расположены два точечных заряда по $6 \cdot 10^6$ Кл. На каком расстоянии друг от друга надо расположить заряды чтобы, сила взаимодействия между ними была равна 0,6 Н.

Задача №2. Определите силу тока, проходящего по медному проводу длиной 100 м и площадью поперечного сечения $0,5 \text{ мм}^2$ при напряжении 6,8В.

Задача №3. Чему равны ЭДС и внутреннее сопротивление батареи, если три одинаковые гальванических элемента с ЭДС 1,5 В и внутренним сопротивлением 0,3 Ом соединены: а) последовательно; б) параллельно.

Задачи с профессиональной направленностью

1. Средняя мощность разряда электрического сома примерно 8 Вт при напряжении 360 В. Время разряда 0,13 мс. Определить емкость электрических органов сома.

2. Разность потенциалов между внутренней и внешней поверхностями мембраны митохондрии внутри клетки печени крысы составляет 200 мВ. Толщина напряженность электрического поля в мембране? Вычислите емкость внешней мембраны митохондрии, если площадь ее поверхности 13 мкм^2 , считая, что относительная диэлектрическая проницаемость мембраны равна 5.

Контрольная работа № 5

«Магнитное поле. Электромагнитная индукция»

Задача №1. Сколько витков должна содержать катушка с площадью поперечного сечения 50 см^2 . При изменении магнитной индукции катушки от 0,2 до 0,3 Тл в течение 4 мс в ней возбуждалась ЭДС 10 В.

Задача №2. Определить время, в течение которого в обмотке выделится количество теплоты, равное энергии магнитного поля в сердечнике электромагнита. Обмотка электромагнита имеет индуктивность 0,8 Гн, сопротивление 15 Ом и находится под постоянным напряжением.

Задача №3. Сила Лоренца, действующая на электрон, равна $5 \cdot 10^{-13}$ Н. С каким ускорением движется электрон в однородном магнитном поле (вектор магнитной индукции перпендикулярен вектору скорости) с индукцией 0,06 Тл.

Задачи с профессиональной направленностью

1. Найдите время изменения магнитного потока и силу индукционного тока УЗИ-аппарата, если сопротивление проводника 0,24 Ом, магнитный поток, пронизывающий контур проводника, равномерно изменился на 0,6 Вб так, что ЭДС индукции оказалось равной 1,2 В.
2. Определить центростремительную силу, действующую на протон в однородном магнитном поле с индукцией 0,02 Тл (вектор магнитной индукции перпендикулярен вектору скорости), если радиус окружности, по которой он движется, равен 8 см.

Контрольная работа № 6 **«Электромагнитные колебания и волны»**

Задача №1. Ток в колебательном контуре изменяется со временем по закону $i = 0,02\cos 628t$. Найти индуктивность контура, зная, что емкость его конденсатора $2 \cdot 10^{-5}$ Ф.

Задача №2. Трансформатор, содержащий в первичной обмотке 720 витков, повышает напряжение с 220 В до 600 В. Определите коэффициент трансформации, число витков во вторичной обмотке? Выясните, в какой обмотке провод имеет большую площадь поперечного сечения?

Задача №3. В цепь переменного тока со стандартной частотой включена катушка с индуктивностью 80 мГн. Найдите действующее значение напряжения на данном участке цепи, если действующее значение силы тока равно 2 А.

Задачи с профессиональной направленностью

1. Цепь, состоящая из последовательно включенных активного сопротивления 120 Ом и конденсатора ёмкостью 45 мкФ, присоединена к городской сети переменного тока с частотой 50 Гц и напряжением 127 В. Определите амплитудное значение силы тока в цепи.
2. Число витков первичной обмотки трансформатора для электрического звонка равно 880 при напряжении в сети 220 В. Вторичная обмотка имеет три вывода на напряжение соответственно 4 В, 6 В и 9 В. Определите число витков во вторичной обмотке.

4.4 Материалы оценочных средств для промежуточной аттестации

1. Определите заряд, который пройдет в проводнике, если постоянная сила тока равна 0,8 А. Время действия тока 15 минут. (Ответ дайте в кулонах).

2. Небесное тело, открытое 18 февраля 1930 г. До 2006 г. оно считалось девятой планетой Солнечной системы. Запишите ответ.

3. Как называется высочайшая гора Солнечной системы?

Выберите один из 4 вариантов ответа:

- | | |
|-------------------|--------------------|
| 1) Олимп | 3) Борозды Пантеон |
| 2) горы Максвелла | 4) Эверест |

4. Что является наиболее наглядным опытным подтверждением существования атомов и молекул?

а) диффузия; б) дифракция; в) дисперсия; г) броуновское движение.

5. Напишите верную формулу:

а) $I = U \cdot R$ б) $R = I \cdot U$ в) $U = I \cdot R$ г) $U = I / R$.

6. Группы звёзд, которые не связаны силами гравитации, или слабосвязанные молодые звёзды, объединённые общим происхождением.

Выберите один из 4 вариантов ответа:

- | | |
|-------------------------|---------------------------|
| 1) звёздные ассоциации | 3) шаровые скопления |
| 2) рассеянные скопления | 4) неправильные скопления |

7. Определите среднюю квадратичную скорость молекулы газа при 0°C . Масса молекулы газа $m_0 = 2,3 \cdot 10^{-26}$ кг. Постоянная Больцмана $k = 1,38 \cdot 10^{-23}$ Дж/К.

8. Определите силу тока в цепи, если ток напряжением 17 В действует 8 мин при этом совершается работа, равная 16 320 Дж.

9. Найдите полную механическую энергию колебаний и наибольшую скорость. В каком положении она достигается, если груз массой 200 г совершает колебания на пружине жесткостью 150 Н/м. Амплитуда колебаний 12 см.

10. Написать недостающие обозначения в следующих ядерных реакциях, определить вещество: ${}_{13}^{27}\text{Al} + {}_0^1n \rightarrow * + {}_2^4\text{He}$

11. Работа выхода электронов из кадмия $A = 6,53 \cdot 10^{-19}$ Дж. Какова длина волны света λ , падающего на поверхность кадмия, если максимальная скорость фотоэлектронов $v = 7,2 \cdot 10^5$ м/с? Масса электрона $9,1 \cdot 10^{-31}$ кг.

Скорость света $c = 3 \cdot 10^8$ м/с.

5. Методические материалы

5.1. Перечень лабораторных работ

Лабораторная работа № 1. «Исследование равноускоренного движения без начальной скорости».

Лабораторная работа № 2. «Определение жесткости пружины».

Лабораторная работа № 3. «Изучение закона сохранения энергии на примере падающего тела».

Лабораторная работа № 4 «Изучение закона Бойля-Мариотта»;

Лабораторная работа № 5 «Изучение закона Гей-Люссака».

Лабораторная работа № 6. «Измерение поверхностного натяжения жидкости».

Лабораторная работа № 7. «Определение влажности воздуха».

Лабораторная работа № 8. «Определение заряда электрона при помощи электролиза»;

Лабораторная работа № 9. «Определение электрической емкости конденсаторов».

Лабораторная работа № 10. «Определение термического коэффициента сопротивления меди»;

Лабораторная работа № 11. «Измерение ЭДС и внутреннего сопротивления источника тока»:

Лабораторная работа № 12. «Изучение законов последовательного и параллельного соединений проводников»;

Лабораторная работа № 13. «Исследование зависимости мощности лампы накаливания от напряжения на её зажимах».

Лабораторная работа № 14. «Определение зависимости сопротивления нити накаливания лампы от температуры в металлах»

Лабораторная работа № 15. «Исследование зависимости мощности, потребляемой лампой накаливания, от напряжения на ее зажимах».

Лабораторная работа № 16. Изучение явления электромагнитной индукции»

Лабораторная работа № 17. «Исследование зависимости периода и частоты свободных колебаний математического маятника от его длины».

Лабораторная работа № 18. «Определение показателя преломления стекла».

Лабораторная работа № 19. «Определение длины световой волны с помощью дифракционной решетки».

Лабораторная работа № 20. «Наблюдение сплошного и линейчатого спектров».

5.2. Темы рефератов и докладов

История физики

1. Значение статического электричества в науке и технике.
2. Электроизмерительные приборы.
5. О магните, магнитных телах и большом магните Земли.
6. Электричество в быту.
7. Глаз. Зрение. Очки.
8. Колебания, волны, звук и здоровье человека.
9. Электродвигатель и другие «профессии» электромагнита.
10. Влажность воздуха и ее значение.
11. Сила земного притяжения.
12. Источники электрической энергии.
13. Цвет и его свойства.
14. Мир звуков и красок.

Выдающиеся деятели в области физики

1. А.М. Ампер – основоположник электродинамики
4. Биофизик Чижевский
5. Вильгельм Конрад РЕНТГЕН. Открытие X-лучей
6. Торричелли Эванджелиста
7. Фарадей
8. Эйнштейн

Электричество и магнетизм.

1. Источники энергии
2. Принцип действия аккумулятора
3. Действие электрического тока на организм человека и животных
4. Изучение основных правил работы с радиоизмерительными приборами.
5. Ионизирующие излучения и их практическое использование
6. Источники энергии
7. Влияние магнитов на живых существ
8. Производство, передача и использование электроэнергии
9. Применение лазера
10. Профессия жидких кристаллов
11. Производство электроэнергии на гидростанциях
12. Применение лазеров в технологических процессах
13. Пьезоэлектрический эффект, применение в науке и технике
14. Распространение радиоволн

15. Сверхпроводимость: история развития, современное состояние, перспективы

16. Современная спутниковая связь, спутниковые системы
17. Трансформаторы
18. Трехфазный ток
19. Физические основы работы современного компьютера
20. Фотоэлектрические преобразователи энергии
21. Что же такое электрический ток
22. Влияние электрического тока на живые существа
23. Экспериментальное обнаружение электромагнитных волн
24. Электрический ток в проводниках и полупроводниках
25. Электрический ток в жидкостях (электролитах)
26. Электрический ток в газах
27. Электростанции
28. Электромагнит
29. Электрический ток в неметаллах
30. Электрический ток в газах
31. Электрические токи в живых существах
32. Электромагнитные волны
33. Явление резонанса

5.3. Кейс задания

3. Как работает холодильник?
4. Как работает микроволновка?
5. Как работают батарейки?
6. Что такое звук? Когда он возникает?
7. Как измеряют кровяное давление?
8. Что вызывает загар и солнечный ожог?
9. Что такое одностороннее зеркало?
10. Что происходит с организмом при поражении электрическим током?
11. Как измерить влажность воздуха?
12. Как работает рентген-аппарат?

6. Список источников

Основные источники:

1. Дмитриева В.Ф. Задачи по физике : учебное пособие / В. Ф. Дмитриева. - Академия, 2010. – 336
2. Дмитриева В.Ф. Физика : учебник / В. Ф. Дмитриева. - Академия, 2010. – 464
3. Дмитриева В.Ф. Физика : учебник / В. Ф. Дмитриева. - Академия, 2011. – 448
4. Методические указания по проведению лабораторных работ по учебной дисциплине "Физика". Ч. 1. (раздел "Механика", "Молекулярная физика") : методические указания / Белгородский ГАУ ; сост.: Л. Ю. Сахнова, Г. А. Селезнева, В. И. Мухин. - Майский : Белгородский ГАУ, 2015. - 42 с
<http://qps.ru/PtdYf>
5. Методические указания по выполнению лабораторных работ по учебной дисциплине ФИЗИКА Часть II (раздел "Электродинамика", "Оптика") / Мухин В. И., Сахнова Л. Ю; ФГБОУ ВО Белгородский ГАУ, 2021. - 53 с.
6. Пинский А. А. Физика : учебник [для среднего профессионального образования] / А. А. Пинский, Г. Ю. Граковский. - Форум, 2014. – 560
7. Пинский А. А. Физика : учебник [для среднего профессионального образования] / А. А. Пинский, Г. Ю. Граковский. - Форум, 2016. - 560

Дополнительные источники

1. Дмитриева В.Ф. Физика для профессий и специальностей технического профиля: учебник для студентов профессиональных образовательных организаций, осваивающих профессии и специальности СПО. – М., 2017.
2. Дмитриева В.Ф. Физика для профессий и специальностей технического профиля. Сборник задач: учеб. пособие для студентов профессиональных образовательных организаций, осваивающих профессии и специальности СПО. – М., 2017.
3. Дмитриева В.Ф. Физика для профессий и специальностей технического профиля. Лабораторный практикум: учеб. пособие для студентов профессиональных образовательных организаций, осваивающих профессии и специальности СПО. – М., 2017.
4. Трофимова Т.И., Фирсов А.В. Физика для профессий и специальностей технического и естественно-научного профилей: Сборник задач: учеб. пособие для студентов профессиональных образовательных организаций, осваивающих профессии и специальности СПО. – М., 2017.
5. Трофимова Т.И., Фирсов А.В. Физика для профессий и специальностей технического и естественно-научного профилей: Решения задач: учеб. пособие для студентов профессиональных образовательных организаций, осваивающих профессии и специальности СПО. – М., 2016.
6. Фирсов А.В. Физика для профессий и специальностей технического и естественно-научного профилей: учебник для студентов профессиональных образовательных организаций, осваивающих профессии и специальности СПО/под ред. Т.И. Трофимовой. – М., 2017.

Электронные издания

1. Тарасов О.М. Физика : учебное пособие / О.М. Тарасов. - Издательство "ФОРУМ", 2019. - 432 с.
<http://znanium.com/catalog/document/?pid=1012153&id=363555>
2. Пинский, А.Ф. Физика: учебник [для среднего профессионального образования] / А.А. Пинский, Г.Ю. Граковский; под общ. Ред. Ю.И. Дика, Н.С. Пурышевой. – 4-е изд., испр. – М.: Форум, 2021.- 560 с.
<http://znanium.com/catalog/document/?pid=1150311&id=361002>
3. www.fcior.edu.ru (Федеральный центр информационно-образовательных ресурсов)
4. www.alleng.ru/edu/phys.htm (Образовательные ресурсы Интернета — Физика)
5. www.school-collection.edu.ru (Единая коллекция цифровых образовательных ресурсов)
6. www.college.ru/fizika (Подготовка к ЕГЭ)
7. Интернет-ресурсы <http://lib.bsaa.edu.ru>